

3 次の問いに答えよ。

(1) 右の図1の曲線は、放物線 $y=x^2$ を原点 O を中心として反時計まわりに 30° 回転したものである。また、点 A は曲線と y 軸との交点である。これについて次の①～③に答えよ。 〈青雲〉

□① y 軸を、原点を中心として時計まわりに 30° 回転してできる直線の式を求めよ。

[]

□② 点 A を、原点を中心として時計まわりに 30° 回転した点 P の座標を求めよ。

[]

□③ 点 A の座標を求めよ。

[]

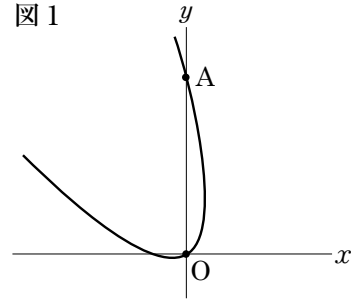


図1

□(2) x の変域が $0 \leq x \leq 1$ である関数 $y=2x^2$ のグラフを、右の図2のように、原点 O のまわりに 30° 回転したとき、斜線部分の面積を求めよ。

〈早大学院〉

[]

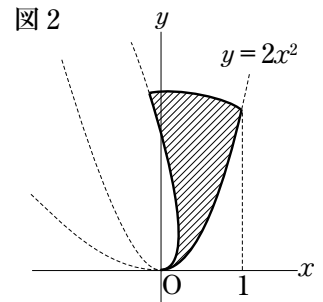


図2

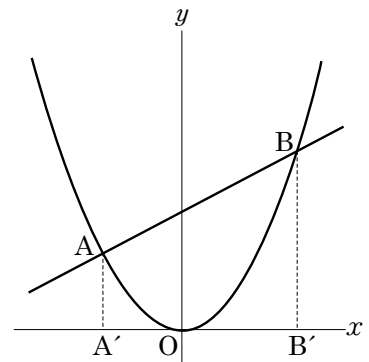
4 $a > 0, b > 0$ として、放物線 $y=ax^2$ と直線 $y=ax+b$ が右の図のように2点 A, B で交わっている。 A, B から x 軸に下ろした垂線の足をそれぞれ A', B' とすると、 $AA' : BB' = 2 : 3$ になった。これについて次の問いに答えよ。 〈ラ・サール〉

□(1) $OA' : OB'$ を求めよ。

[]

□(2) $\frac{b}{a}$ の値を求めよ。

[]



5 右の図のように、放物線 $y = \frac{1}{2}x^2$ ……①、と $y = ax^2$ ……②がある。ただし、 $a > \frac{1}{2}$ とする。点 A, B は直線 $y=1$ と放物線①との交点であり、点 C は点 B を通り y 軸に平行な直線と放物線②との交点であり、点 D は直線 AC と放物線①との交点である。 $\triangle ABD$ の面積が $\triangle ABC$ の面積の2倍であるとき、次の問いに答えよ。 〈修道〉

□(1) 点 D の座標を求めよ。

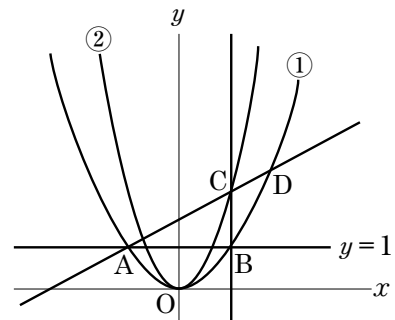
[]

□(2) a の値を求めよ。

[]

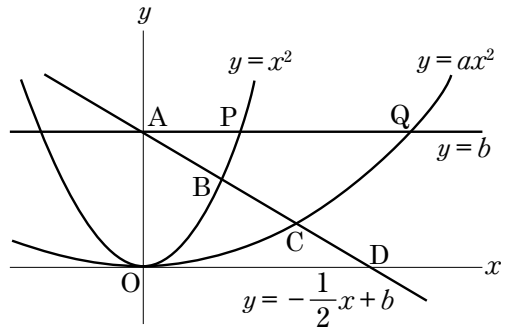
□(3) 直線 $y=b$ が四角形 $OBCA$ の面積を2等分するとき、 b の値を求めよ。

[]



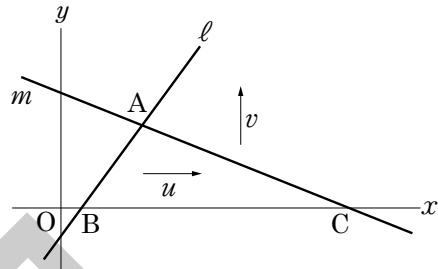
6 右の図のように、2つの放物線 $y=x^2$ ……①, $y=ax^2(0<a<1)$ ……②と2つの直線 $y=-\frac{1}{2}x+b(b>0)$ ……③, $y=b$ ……④がある。③は y 軸, ①, ②, x 軸と点 A, B, C, D で交わり, ④は①, ②と点 P, Q で交わっている。ただし, B, C, P, Q の x 座標は正とする。AB=BC=CD であるとき, 次の問いに答えよ。〈洛星〉

- (1) a, b の値を求めよ。
[$a = \quad, b = \quad$]
- (2) $\frac{AQ}{AP}$ の値を求めよ。
[\quad]
- (3) $\triangle ABP$, 四角形 PBCQ, $\triangle QCD$ の面積をそれぞれ S, T, U とするとき, $\frac{T}{S}, \frac{U}{S}$ の値を求めよ。
[\quad]



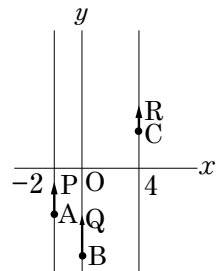
7 右の図のように、2直線 ℓ, m と x 軸とで囲まれた面積 20 の $\triangle ABC$ がある。いま、直線 ℓ を x 軸の正の向きへ、直線 m を y 軸の正の向きへ、それぞれ一定の速度 u, v で同時に平行移動させる。すると、2直線 ℓ, m は、12秒後に x 軸上で交わった。BC の長さを a とするとき, 次の問いに答えよ。〈城北〉

- (1) 1秒後の2直線 ℓ, m が, x 軸と交わる2点間の距離を a を用いて表せ。
[\quad]
- (2) t 秒後 ($0 \leq t < 12$) の2直線 ℓ, m と x 軸とで囲まれた三角形の面積を t を用いて表せ。
[\quad]



8 3点 P, Q, R は、それぞれ $A(-2, -2), B(0, b), C(4, 3)$ を出発点として、直線 $x=-2, y$ 軸, 直線 $x=4$ 上を毎分 $\frac{3}{7}, \frac{6}{7}, \frac{1}{7}$ の速さで、右の図のように上に進む。ただし, $b<0$ とする。いま、3点 P, Q, R は、それぞれ A, B, C を出発した。このとき次の問いに答えよ。〈早大学院〉

- (1) 3点 P, Q, R は放物線 $y=ax^2(a>0)$ を同時に通過した。それは出発してから何分後のことか。また, a, b の値も求めよ。
[$\quad, a = \quad, b = \quad$]
- (2) 3点 P, Q, R は(1)の放物線を同時に通過してからのち、一直線上に並んだ。それは出発してから何分後のことか。また、この直線の式も求めよ。
[\quad], 式[\quad]



9 図1のような数直線上を、点 P が原点 O を出発して、運動する。原点 O を出発してから t 秒後の点 P の座標を x , 速度を毎秒 v cm とするとき, t と v の間には図2のような関係がある。このとき, t と x の関係を表すグラフをかけ。

図1

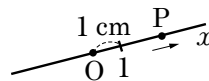
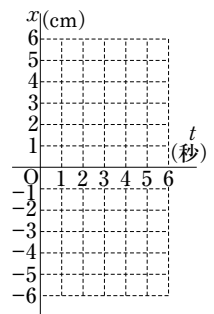
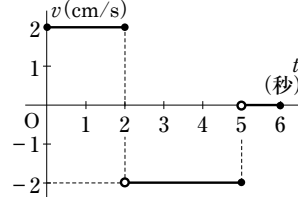


図2



□ 〈開成〉

