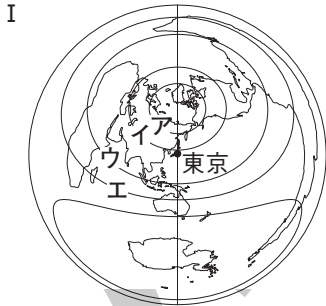
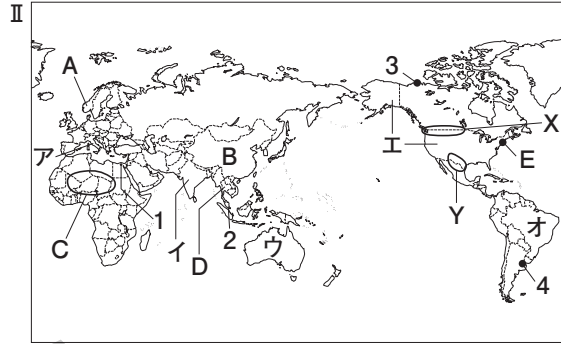


練成問題

1 次のⅠ、Ⅱの略地図を見て、あとの問いに答えなさい。



(中央からの距離と方位が正しい)



□(1) 地図Ⅰ中にア～エで示した線のうち、赤道を示す緯線を1つ選び、記号で答えなさい。

(1) .....

□(2) 東京から航空機で真東に向かって出発し、そのまま地球を一周して東京に戻ってくるとき、この航空機が最初に上空を通過する大陸の名を答えなさい。

(2) .....

□(3) 地図Ⅱ中にAで示した国など高緯度の地域では、夏至のころに、太陽が地平線から深く沈まず、薄明るい夜が続く現象が見られる。この現象を何というか、答えなさい。

(3) .....

□(4) 地図Ⅱ中にX、Yで示した国境は、それぞれ何に沿って引かれているか。最も適当な組み合わせを次から1つ選び、記号で答えなさい。

(4) .....

- ア X = 河川, Y = 山脈    イ X = 緯線, Y = 河川
- ウ X = 河川, Y = 緯線    エ X = 緯線, Y = 山脈

□(5) 地図Ⅱ中にBで示した国は、人口が世界最大である。この国の人口はおよそどれくらいか。次から1つ選び、記号で答えなさい。

(5) .....

- ア 1.3億人    イ 3億人    ウ 13億人    エ 30億人

□(6) 次の説明にあてはまる国を、地図Ⅱ中のア～オから1つずつ選び、記号で答えなさい。

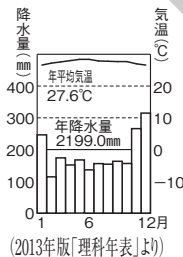
- ① 人口と面積がともに、世界第5位となっている。
- ② 南アジアに属し、人口のほとんどがヒन्दゥー教を信仰している。

(6)① .....

② .....

□(7) 右の雨温図は、地図Ⅱ中に1～4で示した都市のうち、どの都市の気候の特色を表しているか。1つ選び、番号で答えなさい。

(7) .....



□(8) 地図Ⅱ中にCで示した地域に多く見られる住居を次から1つ選び、記号で答えなさい。

(8) .....

- ア 日干しれんがの家    イ イグルー
- ウ 木造の住居

□(9) 地図Ⅱ中にDで示した国で最も多く信仰されている宗教を答えなさい。

(9) .....

□(10) 東京から地図Ⅱ中にEで示した都市への最短ルートが直線で表される地図は、地図ⅠとⅡのどちらか。1つ選び、番号で答えなさい。

(10) .....