

2 地球儀は、図1のように「地図」を球体にはりつけることでできています。地球儀を上(北極)から見ると、図2のようになります。これらの図を見て、次の問いに答えなさい。 〈帝京八王子・一部略〉

- (1) 図1・2中の7で赤道より下に描かれている大陸はどれですか。次から1つ選び、記号で答えなさい。 []
 ア 北アメリカ イ 南アメリカ
 ウ オーストラリア エ アフリカ
 オ ユーラシア

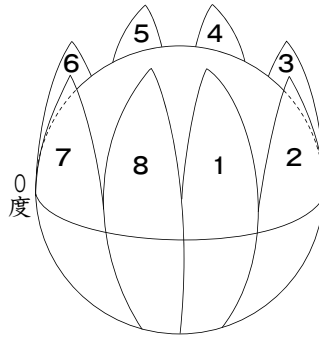


図1

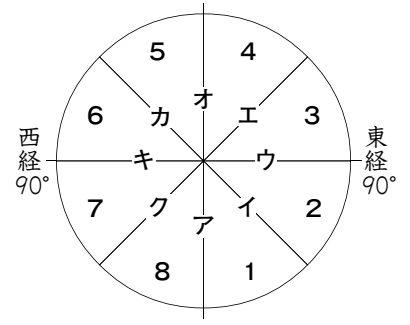


図2

- (2) 図1で赤道に平行に引かれる線を何といますか。次から1つ選び、記号で答えなさい。 []
 ア 国境線 イ 等高線 ウ 緯線 エ 海岸線 オ 経線

- (3) 図2において北海道はどこにあたりますか。図2の1～8から1つ選び、番号で答えなさい。 []

- (4) 地球上で北極と南極を最も近い距離で結ぶ線を何といますか。次から1つ選び、記号で答えなさい。 []
 ア 国境線 イ 等高線 ウ 緯線 エ 海岸線 オ 経線

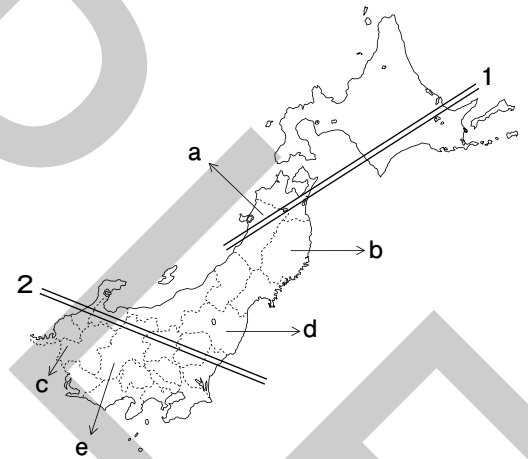
- (5) 世界各地の時刻の基準となる、ロンドンの旧グリニッジ天文台の位置はどこにあたりますか。図2のア～クから1つ選び、記号で答えなさい。 []

3 右の地図を見て、次の問いに答えなさい。 〈暁星国際・一部改〉

- (1) 1の線が通る都道府県の都道府県庁所在地にあてはまらない都市を次から1つ選び、記号で答えなさい。 []
 ア 札幌市 イ 山形市
 ウ 青森市 エ 秋田市

- (2) 2の線が通る都道府県の都道府県庁所在地にあてはまらない都市を次から1つ選び、記号で答えなさい。 []
 ア 富山市 イ 水戸市
 ウ さいたま市 エ 長野市

- (3) 全都道府県を面積の大きい順に並べたとき、次の(A)と(B)にあてはまる都道府県を漢字で答えなさい。また、その都道府県をa～eから1つずつ選び、記号で答えなさい。



都道府県名	記号
A []	[]
B []	[]

北海道→(A)→福島県→(B)→新潟県

- (4) 最も多くの府県と境を接しているのは長野県です。長野県と接していない府県を次からすべて選び、記号で答えなさい。 []

- ア 岐阜県 イ 神奈川県 ウ 富山県 エ 新潟県
 オ 愛知県 カ 栃木県 キ 静岡県 ク 群馬県

- (5) 政令指定都市に指定されていない都市を次から1つ選び、記号で答えなさい。 []
 ア 高崎市 イ 相模原市 ウ 千葉市 エ さいたま市
 オ 岡山市 カ 新潟市 キ 堺市