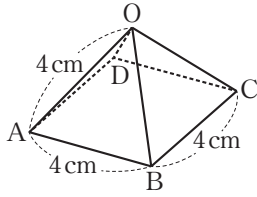


1 次のような図の正四角錐や円錐の高さと体積を求めなさい。

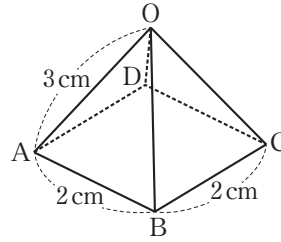
□(1)



高さ .....

体積 .....

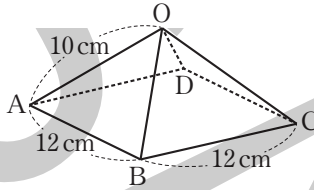
□(2)



高さ .....

体積 .....

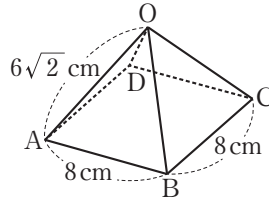
□(3)



高さ .....

体積 .....

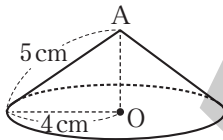
□(4)



高さ .....

体積 .....

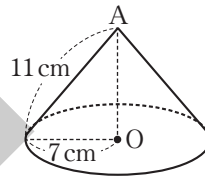
□(5)



高さ .....

体積 .....

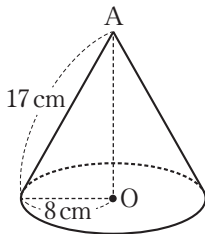
□(6)



高さ .....

体積 .....

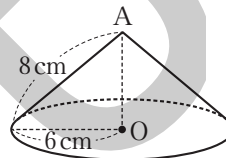
□(7)



高さ .....

体積 .....

□(8)

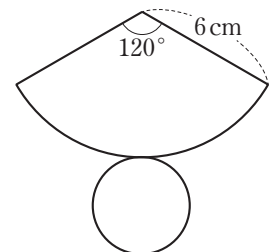


高さ .....

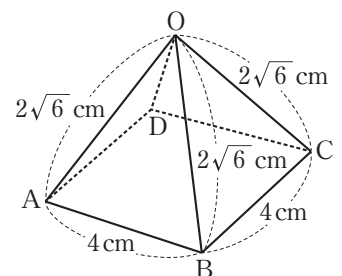
体積 .....

2 次の問いに答えなさい。

□(1) 右の図はある円錐の展開図である。この展開図を組み立ててできる円錐の体積を求めなさい。



□(2) 右の図のような正四角錐の体積と側面積を求めなさい。



体積 ..... 側面積 .....