

【社会】

2021年度 公立高校入学試験 出題範囲変更に伴う補強問題

入試の出題範囲の変更に伴い、今年に限り違う傾向の問題や、別の分野や領域が入試の目玉となる可能性があります。それらに対応するための「補強問題」をご用意いたしました。

歴史分野では大正時代以降、公民分野では現代社会・日本国憲法・人権・政治の問題を収録しています。総仕上げとしてご利用ください。

INDEX

■ 1	第一次世界大戦と日本	1
■ 2	大正デモクラシーと大衆文化	2
■ 3	第二次世界大戦と日本	3
■ 4	第二次世界大戦後のようす	4
■ 5	現代の世界と日本	5
■ 6	現代社会と個人	6
■ 7	人権思想の発達	7
■ 8	日本国憲法	8
■ 9	人権と国際社会	9
■ 10	地方自治	10
■ 11	選挙・政党	11
■ 12	国会	12
■ 13	内閣	13
■ 14	裁判所・三権分立	14

1

第一次世界大戦と日本

～実戦問題～

1 右の略年表を見て、次の問いに答えなさい。

□(1) 第一次世界大戦がおこった時期を、右の略年表中の
ア～オから1つ選び、記号で答えなさい。

年代	できごと
1910	韓国を併合する。 ア
1914	あサラエボ事件がおこる。 イ
1915	中国に対して、 <u>二十一条の要求</u> を出す。 ウ
1917	うロシア革命がおこる。 エ
1918	シベリア出兵が行われる。 オ
1919	ベルサイユ条約が結ばれる。

□(2) 下線あがおこった地域は、当時、ヨーロッパの()
と呼ばれていた。()にあてはまる語句を答えな
さい。 []

□(3) 下線いについて、次の問いに答えなさい。

□① 次の資料は、下線いの条文の部分要約である。資
料中の(A)・(B)にあてはまる国名の正しい
組み合わせをあとから1つ選び、記号で答えなさい。

(A)は、(B)が山東省内でもっている権益を日本に譲り、同省の鉄道敷設権などを日本に
与える。

ア A = 中華民国, B = ドイツ []

イ A = 中華人民共和国, B = ドイツ

ウ A = 中華民国, B = フランス

エ A = 清, B = ドイツ

□② この要求をやむなく受け入れた、当時の中国の大総統を、次から1人選び、記号で答えなさい。

ア 洪秀全 イ 蒋介石 ウ 袁世凱 エ 張作霖 []

□(4) 下線うについて、次の問いに答えなさい。

□① この革命の指導者を次から1人選び、記号で答えなさい。 []

ア レーニン イ ビスマルク

ウ マルクス エ クロムウェル

□② この革命を恐れた日本はシベリア出兵を行った。このことの国内へ
の影響について述べた次の文章中の(C)・(D)にあては
まる地名と語句の最も適当な組み合わせを右の表中のア～エから1つ
選び、記号で答えなさい。 []

	C	D
ア	富山	連立
イ	埼玉	連立
ウ	富山	政党
エ	埼玉	政党

シベリア出兵を見越して、米屋や大商人らが米の売り惜しみや買い占めなどを行ったため、米の値
段が高騰した。これに不満をもった(C)県の漁村の主婦らがおこした米騒動は、たちまち全
国に広がった。この米騒動の責任をとってときの内閣が総辞職し、原敬がわが国で初めて本格的な
(D)内閣をつくった。

□(5) ロシア革命の影響もあり、このころからアジアやアフリカで植民地支配を脱しようとする民族の独立運
動がさかんになっていった。各国のようすについて、次の問いに答えなさい。

□① 朝鮮の三・一独立運動は、どこの国の支配に抵抗した運動か、答えなさい。 []

□② 中国で、反日・反帝国主義の国民運動を指導し、中国国民党を結成した人物の名を答えなさい。
[]

1 右の略年表を見て、次の問いに答えなさい。

□(1) 下線あについて、桂内閣の退陣をせまった第一次護憲運動の中心になったのはだれか。

[]

□(2) (い) にあてはまる、日本初の本格的政党内閣を組織した、立憲政友会の総裁はだれか。

[]

□(3) 下線うについて、次の資料は、社会的に差別を受けていた被差別部落の人々が、差別からの解放を誓って出した宣言である。この宣言の名をあとから1つ選び、記号で答えなさい。

[]

年代	できごと
1912	あ <u>第一次護憲運動</u> がおこる。
1918	(い) が政党内閣を組織する。
1922	う <u>部落解放運動の組織</u> が結成される。
1923	(え) がおこる。
1925	お <u>普通選挙制度</u> が実現する。

全国に散在する部落の人々よ、団結せよ。ここにわれわれが人間を尊敬することによって、みずからを解放しようとする運動をおこしたのは当然である。われわれは、心から人生の熱と光を求めるものである。(中略)人の世に熱あれ、人間に光あれ。

ア 権利章典 イ 人権宣言
ウ 独立宣言 エ 水平社宣言

□(4) (え) にあてはまる、東京・横浜を中心に大きな被害をもたらした災害を何というか。

[]

□(5) 下線おについて、次の問いに答えなさい。

□① このとき選挙権を与えられた人々の資格を次から1つ選び、記号で答えなさい。

[]

ア 20歳以上の男女 イ 20歳以上の男子
ウ 25歳以上の男女 エ 25歳以上の男子

□② これと同時に、治安維持法が制定された。この治安維持法が制定された目的として最も適当なものを次から1つ選び、記号で答えなさい。

[]

ア 物資や人材を戦争に優先して使うため
イ 国家の財政を安定させるため
ウ 社会主義運動を取り締まるため
エ 忠君愛国の道徳や教育理念を示すため

□③ この時期に文学の分野で活躍し、知性的な作品で人々に新鮮な印象を与えた人物を次から1人選び、記号で答えなさい。

[]

ア 西田幾多郎 イ 美濃部達吉
ウ 芥川龍之介 エ 横山大観

□(6) この略年表のころ、日本では民主主義的改革を求める運動が広がった。これについて、次の問いに答えなさい。

□① 吉野作造が唱えた、普通選挙による政党中心の議会政治を実現することを主張した民主主義の理論を何というか。

[]

□② こうした風潮は何と呼ばれたか、8字で答えなさい。

[]

1 右の略年表を見て、次の問いに答えなさい。

□(1) 下線あについて、次の問いに答えなさい。

□① 世界恐慌への対策としてニューディール政策を行った国はどこか、答えなさい。

[]

□② 次の文章で述べている国をあとから1つ選び、記号で答えなさい。

[]

この国も独裁政治であったが、5か年計画による計画経済を推進し、資本主義国家の不況の影響を受けず、工業を発達させた。

ア ドイツ イ イタリア ウ ソビエト連邦 エ 中国

□(2) 下線いについて、次の問いに答えなさい。

□① この政権が成立した国について正しく述べているものを次から1つ選び、記号で答えなさい。

ア 植民地との結びつきを強めるブロック経済をとり、貿易を発展させた。 []

イ 社会党・労働組合・知識人などが、ファシズムに抵抗して人民戦線政府を樹立させた。

ウ ベルサイユ条約を破棄して再軍備を行い、チェコスロバキアやポーランドなどに侵入した。

エ エチオピアを併合し、国際連盟を脱退した。

□② この国の現在の位置を右の略地図中から1つ選び、記号で答えなさい。

[]

□(3) 略年表で示した時期の日本について述べている次のA～Dの各文を読んで、あとの問いに答えなさい。

A (X) 郊外で日中両軍が衝突し、日中戦争が始まった。

B 南満州鉄道の爆破事件をきっかけとして、満州事変がおこった。

C 総力をあげて戦争を行うため、国家総動員法が制定された。

D 青年将校に率いられた陸軍の部隊が二・二六事件をおこした。

□① (X) にあてはまる中国の都市を答えなさい。

[]

□② A～Dの各文を年代の古い順に並べ替えたものとして正しいものを次から1つ選び、記号で答えなさい。

[]

ア ACDB イ BADC ウ CABD エ BDAC

□(4) 下線うについて、ポーランド侵攻にいたる次のA～Dまでのドイツの行動を、正しい順番に並べ替え、記号で答えなさい。

[]

A ベルサイユ条約を破棄する。

B 日独伊防共協定を締結する。

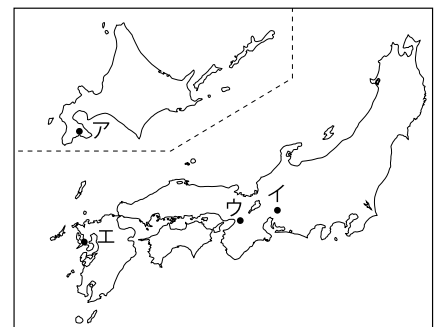
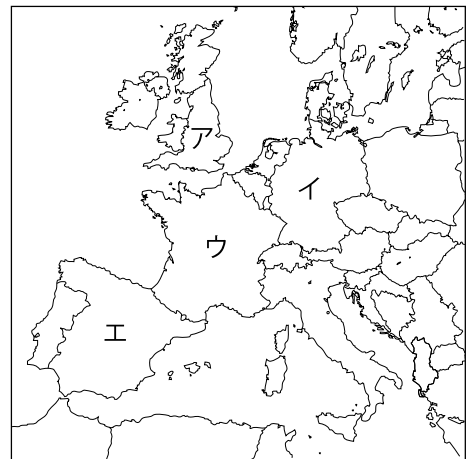
C 国際連盟を脱退する。

D 独ソ不可侵条約を締結する。

□(5) 下線えについて、広島への投下直後、アメリカ軍により2個目の原爆を投下された都市はどこか。右の略地図中から1つ選び、記号で答えなさい。

[]

年代	できごと
1929	あ <u>世界恐慌</u> がおこる。
1933	い <u>ナチスが政権</u> をとる。
1939	う <u>ドイツがポーランド</u> に侵攻する。
1945	え <u>8月6日</u> 、広島に原爆が投下される。



1 右の略年表を見て、次の問いに答えなさい。

- (1) 下線あについて、次の文中の (A) , (B) にあてはまる語句をあとから1つずつ選び、記号で答えなさい。 A [] B []

占領政策の最大の目的は、それまでの (A) 主義を排除し、日本に (B) 主義を根づかせることであった。

ア 資本 イ 社会 ウ 民主 エ 軍国

- (2) 下線いについて、次の問いに答えなさい。
- ① この時期の日本について誤って述べているものを次から1つ選び、記号で答えなさい。 []
- ア 農地改革の結果、自作農が増加し、農村の民主化が進んだ。
- イ 民主主義教育の基本理念を示すため教育勅語が制定された。
- ウ 言論・出版・結社の自由が保障され、政党活動が復活した。
- エ 財閥解体が行われ、経済の民主化が進んだ。

- ② 民主化にともない、天皇が出した宣言は何か、答えなさい。 []

□(3) 下線うについて、次の問いに答えなさい。

- ① 現在、憲法記念日となっている、日本国憲法が施行された月日を答えなさい。 []

- ② 三大原則のうちの1つについて定めている、次の日本国憲法の条文は、第何条か、答えなさい。 []

日本国民は、正義と秩序を基調とする国際平和を誠実に希求し、国権の発動たる戦争と、武力による威嚇又は武力の行使は、国際紛争を解決する手段としては、永久にこれを放棄する。

□(4) 下線えについて、国際連合への加盟によって、日本は国際社会への本格的な復帰をはたした。このことに最も関係の深いできごとを、次から1つ選び、記号で答えなさい。 []

ア アメリカの水爆実験で日本の漁船が被災した。

イ ソ連との国交が回復した。

ウ 自由民主党が結成された。

エ 南極観測隊の昭和基地ができた。

□(5) 次の文は、略年表中のいずれかの時期について述べている。この文があてはまる時期をア～エから1つ選び、記号で答えなさい。 []

吉田茂首相が、48か国との間でサンフランシスコ平和条約を結び、日本が独立を回復した。同時に、日本とアメリカの間では、日米安全保障条約が結ばれた。

年代	できごと
1945	あ <u>連合国が日本を占領し、い日本の民主化政策が始まる。</u> ア
1946	う <u>日本国憲法が公布される。</u> イ
1956	え <u>国際連合に加盟する。</u> ウ
1968	大学紛争が激化する。 エ
1972	沖縄県が日本に返還される。

1 次の文章を読んで、あとの問いに答えなさい。

日本経済は、1950年代後半から（ A ）と呼ばれる経済発展をすることになった。国民生活も電気製品の普及によって、大きく変化した。また、1960年代に入るとあ東京オリンピックの開催もあって、経済は拡大し続けたが、そのかげで環境問題も発生した。

こうした経済発展も1970年代に入ると、い第1次石油危機などによって停滞した。また、貿易摩擦もおきたため、企業は省エネルギー・省資源経営をめざすとともに、海外進出をする企業もめだつようになった。

う1980年代後半から1990年代前半には、国際社会に大きな変化が生まれた。この間、日本経済も激変を経験し、国民の意識も変わるとともに社会のしくみも変化してきた。

□(1) （ A ）にあてはまる最も適切な語句を答えなさい。 []

□(2) 下線あについて、次のカードを見て、あとの問いに答えなさい。

ア	沖縄が日本に復帰する。
イ	東海道新幹線が開通する。
ウ	大阪で万国博覧会が開催される。
エ	第1回先進国首脳会議（サミット）が開催される。

□① 東京オリンピックと同じ年のできごとを1つ選び、記号で答えなさい。 []

□② ア～エのできごとをおこった年代の古い順に並べ、記号で答えなさい。 []

□(3) 下線いについて、1970年代前半におこった第1次石油危機の原因となったできごととして最も適切なものを次から1つ選び、記号で答えなさい。 []

ア 第4次中東戦争

イ ベトナム戦争

ウ 湾岸戦争

エ 朝鮮戦争

□(4) 下線うについて、次の問いに答えなさい。

□① 1980年代後半から1990年代前半におこったできごととして不適当なものを次から1つ選び、記号で答えなさい。 []

ア アメリカで同時多発テロが発生する。

イ ソ連が15の共和国に解体される。

ウ ベルリンの壁が崩壊する。

エ 日本の国鉄が民営化される。

□② 1989年、米ソ両国が冷戦終結宣言を出した首脳会談を何というか、答えなさい。 []

1 次の日本国憲法の条文を読んで、あとの問いに答えなさい。

第24条① 婚姻は、両性の（ a ）のみに基いて成立し、夫婦が（ b ）の権利を有することを基本として、相互の協力により、維持されなければならない。

② 配偶者の選択、財産権、相続、住居の選定、離婚並びに婚姻及び家族に関するその他の事項に関しては、法律は、（ c ）の尊厳と両性の本質的（ d ）に立脚して、制定されなければならない。

□(1) 条文中の（ a ）～（ d ）にあてはまる語句を次から1つずつ選び、記号で答えなさい。

- ア 平等 イ 公平 ウ 合意 エ 契約
オ 同意 カ 同等 キ 社会 ク 国民
ケ 個人 コ 公共

a [] b [] c [] d []

□(2) 家族に関することを規定している法律を次から1つ選び、記号で答えなさい。 []

- ア 憲法 イ 民法
ウ 刑法 エ 商法

□(3) 核家族とはどのような家族か、次から1つ選び、記号で答えなさい。 []

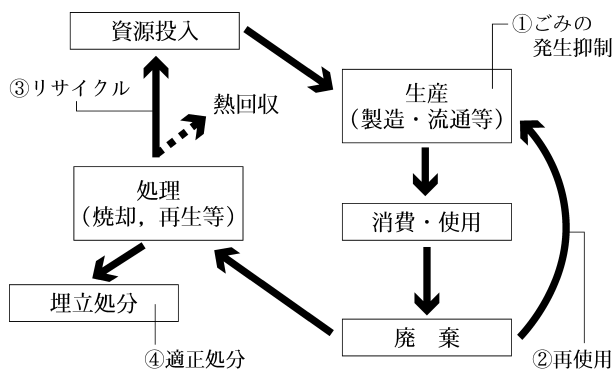
- ア 親・子・孫の3世代が一緒の家族。
イ 夫婦と未婚の子ども、または夫婦のみの家族。
ウ 独身者のみの家族。
エ 親と子の2世代の夫婦の家族。

□(4) 男女平等の社会について、次の問いに答えなさい。

□① 社会のあらゆる分野で男女が性別にかかわらず、個性と能力を十分にかすことができる社会を何というか、答えなさい。 []

□② 1985年に日本が女子差別撤廃条約を批准したのにもない、国内で制定された、雇用の場での男女の差別をなくすことを目的とした法律の名を答えなさい。 []

□(5) 近年では、資源に関して次の図で示したようなしくみが多くとりいれられている。資源に関して、どのような社会が目指されているといえるか。簡単に説明しなさい。



[]

7

人権思想の発達

～実戦問題～

1 人権思想の発達の歴史をまとめた右の年表を見て、次の問いに答えなさい。

□(1) (a) にあてはまる最も適当なものを次から1つ選び、記号で答えなさい。

- ア 南北戦争 イ 西南戦争
ウ 清教徒革命 エ 2月革命

[]

□(2) (b) にあてはまる最も適当なものを次から1つ選び、記号で答えなさい。

- ア 人権宣言 イ 権利章典
ウ マグナ・カルタ エ 独立宣言

[]

□(3) 下線 c は、アメリカがどの国からの独立をめざしておこったか、答えなさい。

[]

□(4) (d) にあてはまる最も適当な語句を答えなさい。 []

□(5) 下線あに影響を与えた人物で、「社会契約論」を翻訳し、フランスの人権思想を日本に紹介したのはだれか、答えなさい。 []

□(6) 下線いについて、大日本帝国憲法の内容や、この憲法のもとでの制度について述べた文として最も適当なものを次から1つ選び、記号で答えなさい。 []

- ア 国民の権利は全く認められていなかった。 イ 君主権は憲法によって大きく制限されていた。
ウ 兵役の義務と共に勤労の義務も記されていた。 エ 議会は貴族院と衆議院の2院制だった。

□(7) 下線うの施行日を次から1つ選び、記号で答えなさい。 []

- ア 2月11日 イ 5月3日 ウ 8月15日 エ 11月3日

□(8) 人権思想の発達に影響を与えた人物についてまとめた次の表を見て、あとの問いに答えなさい。

人 物	国	思 想
(A)	イギリス	専制政治を批判し、名誉革命に大きな影響を与えた。
(B)	フランス	権利の保護のためには、 <u>権力の分立が必要だと「法の精神」で説いた。</u>
ルソー	フランス	人民主権、共和制などを主張した。

□① (A) と (B) にあてはまる最も適当な人物を次から1人ずつ選び、記号で答えなさい。

- ア リンカーン イ ロック A [] B []
ウ モンテスキュー エ マルクス

□② 表中の下線部について説明した次の文章中の (※) にあてはまる最も適当な数字を答えなさい。 []

国家権力のゆきすぎを防ぐため、(※) つの機関に権限を分担させ、互いに抑制と均衡をはかるべきだと主張した。この考え方は、アメリカ合衆国憲法にもとりいれられた。

□(9) ドイツ共和国で、社会権について定めたワイマール憲法が制定された時期として最も適当なものを年表中の 1 ~ 4 から1つ選び、番号で答えなさい。 []

年代	できごと	
1642	(a) がおこる (英)	↑ 1 ↓
1688	名誉革命がおこる (英) → (b) が制定される	
1775	c 独立戦争がおこる (米)	↑ 2 ↓
1789	フランス革命がおこる (仏)	
1868	年号が明治となる (日) あ自由民権運動が高まる (日)	↑ 3 ↓
1889	い大日本帝国憲法が制定される (日)	
1914	第1次世界大戦がおこる (~1918)	↑ 4 ↓
1939	第2次世界大戦がおこる (~1945)	
1945	(d) 宣言を受諾して降伏する (日)	
1946	う日本国憲法が公布される (日)	

1 基本的人権について、次の問いに答えなさい。

- (1) 自由権について、次の資料は、1925年に制定された治安維持法の一部である。次のような内容の法律が現在の憲法のもとで制定された場合、自由権のうち、どの権利を侵害していることになるか。あとから2つ選び、記号で答えなさい。 [] []

第1条① 国体を変革し、又は私有財産制度を否認することを目的として結社を組織し、又は情を知りて之に加入したる者は、10年以下の懲役または禁錮に処す。

ア 学問の自由 イ 思想及び良心の自由 ウ 信教の自由 エ 集会・結社・表現の自由

- (2) 参政権についてまとめた右の表中の (a), (b) にあてはまる語句を次から1つずつ選び、記号で答えなさい。 a [] b []

ア 内閣総理大臣 イ 最高裁判所裁判官
ウ 憲法改正 エ 衆議院の解散

参政権	公務員の選定・罷免権
	選挙権・被選挙権
	(a) の国民審査権
	(b) の国民投票権
	請願権

2 新しい人権について、次の問いに答えなさい。

- (1) 次の表中の (X), (Y) にあてはまる語句をあとから1つずつ選び、記号で答えなさい。

	法令名	法令の内容
環境権	(X)	1997年に制定された。開発事業などを行うときに、開発が自然環境に与える影響を事前に予測・調査・評価することを事業者に義務づけた。
知る権利	(Y)	1999年に制定された。中央省庁の行政文書の公開を、個人や団体が請求した場合、各省庁は原則として公開しなければならない。

ア 環境基本法 イ 環境アセスメント法 ウ 公害対策基本法 エ 家電リサイクル法
オ 個人情報保護法 カ 情報公開法 X [] Y []

- (2) 個人の私的な生活や情報を他人の干渉から守る権利を何というか、答えなさい。 []

3 国際社会と人権について、右の略年表を見て、次の問いに答えなさい。

- (1) 右の年表中の下線 a ~ c にあてはまる説明を次の1~3からそれぞれ選ぶとどうなるか。最も適当な組み合わせをあとから1つ選び、記号で答えなさい。 []

年代	できごと
1948	a 世界人権宣言が採択される
1965	b 人種差別撤廃条約が採択される
1966	c 国際人権規約が採択される
1985	(d) 条約を批准するため、日本で男女雇用機会均等法が制定される

- 1 皮膚の色や民族的相違による優越主義が間違いであることを示したものである。
2 条約のような法的拘束力はないが人権保障の基準を示したものである。
3 人権保障の実施を義務づける条約の形で加盟国を拘束したものである。

ア a = 1, b = 2, c = 3 イ a = 1, b = 3, c = 2
ウ a = 2, b = 1, c = 3 エ a = 2, b = 3, c = 1

- (2) 次の条文は (d) 条約の一部である。(d) にあてはまる最も適当な語句を答えなさい。 []

第3条 締約国は、あらゆる分野、特に、政治的、社会的、経済的及び文化的分野において、女子に対して男子との平等を基礎として人権及び基本的自由を行使し及び享有することを保障することを目的として、女子の完全な能力開発及び向上を確保するためのすべての適当な措置（立法を含む。）をとる。

1 次の日本国憲法の条文を読んで、あとの問いに答えなさい。

第93条① 地方公共団体には、法律の定めるところにより、その議事機関として**あ**議会を設置する。

② **い**地方公共団体の長、**う**その議会の議員及び法律の定めるその他の吏員は、その地方公共団体の住民が、直接これを選挙する。

□(1) 下線**あ**に関して、地方議会について述べた文として最も適当なものを次から1つ選び、記号で答えなさい。 []

- ア 地方議会は国からの国庫支出金の使い方を決めることができる。
- イ 地方議会の定例会は毎年1回1月に召集され、予算案を審議する。
- ウ 地方議会はその地方公共団体だけに適用される条例の制定を行う。
- エ 地方議会は二院制をとっている。

□(2) 下線**い**について、次の問いに答えなさい。

- ① 都道府県知事を補佐する役を何というか、答えなさい。 []
- ② 次の図は、地方公共団体の首長と地方議会の関係をまとめたものである。図中の(A), (B)にあてはまるものをあとから1つずつ選び、記号で答えなさい。



A []
B []

- ア 議長の指名 イ 議会の解散 ウ 不信任決議
- エ 首長の指名 オ 国政調査権 カ 解職請求 (リコール)

□(3) 下線**う**に関して、地方議会議員について述べた文として最も適当なものを次から1つ選び、記号で答えなさい。 []

- ア 地方議会議員の任期は6年で3年ごとに半数が改選される。
- イ 地方議会議員の任期は4年である。
- ウ 地方議会議員の被選挙権は30歳以上に認められている。
- エ 地方議会議員は学校や図書館などの運営を行う。

2 住民参加の地域づくりについて、次の問いに答えなさい。

□(1) 地方公共団体の住民には、直接請求権が保障されている。住民の直接請求権の例として、次のような場合には、どのような手続きをとればよいか。最も適当なものをあとから1つ選び、記号で答えなさい。

60000人の有権者がいる市で、条例の制定を請求する場合。 []

- ア その市の1200人以上の有権者の署名を集めて、選挙管理委員会に請求する。
- イ その市の20000人以上の有権者の署名を集めて、選挙管理委員会に請求する。
- ウ その市の1200人以上の有権者の署名を集めて、市長に請求する。
- エ その市の20000人以上の有権者の署名を集めて、市長に請求する。

□(2) 次の文を読んで、条例制定による住民投票を行うことは、住民にとってどのような意義があると考えられるかを簡単に答えなさい。

長野県の平谷村では、中学生にも住民投票を認める条例が、平成14年12月に制定され、平成15年5月に住民投票が実施された。

[]

1 日本の選挙制度について、次の問いに答えなさい。

- (1) 現在の日本の選挙制度の説明として不適当なものを次から1つ選び、記号で答えなさい。[]
- ア 投票は1人につき1票とする。 イ 投票用紙には自分の名前をはっきりと書く。
- ウ 一定の年齢になれば、選挙権が与えられる。 エ 投票は他人にまかせず自分で行う。

- (2) 次のことがらについて規定している法律の名を答えなさい。 []

・選挙の手続き	・選挙権	・被選挙権	・選挙運動
---------	------	-------	-------

- (3) 選挙区制についてまとめた次の表中の①～③にあてはまる数字や語句を答えなさい。

選挙区	選出方法	① []
小選挙区制	1つの選挙区から（ ① ）人の代表を選ぶ。	② []
（ ② ）制	1つの選挙区から複数の代表を選ぶ。	③ []
比例代表制	（ ③ ）の得票率に応じて議席を配分する。	

- (4) 選挙の課題として議員定数の不均衡の問題がある。これはどのような問題か、説明しなさい。
[]

2 政党政治について説明した次の図を見て、あとの問いに答えなさい。

図 I

図 II

<衆議院議員選挙（総選挙）の結果>

政党名	当選者数
A党	●●●●●●●●
B党	●●●●●
C党	●●
D党	●●
E党	●



内閣を組織する政党	それ以外の政党
A党 C党	B党 D党 E党

- (1) A党、C党のように、政権を獲得している政党のことを何というか、答えなさい。
[]
- (2) B党、D党、E党のように、政権に対する批判勢力として存在する政党のことを何というか、答えなさい。
[]
- (3) 一般に、内閣総理大臣に指名されるのはA党～E党のうちどの政党の党首か。最も適当なものを答えなさい。
[]
- (4) 図 I のように、議席数を最も多く獲得している政党が単独で過半数を占められなかった場合、図 II のように複数の政党が政権をともに担当することがある。このような政権のことを何というか、答えなさい。
[]

3 政治参加について、次の問いに答えなさい。

- (1) 最近、政治に対して無関心な人が多いことが問題化している。投票率を低下させないための工夫を1つ答えなさい。
[]
- (2) 社会の多くの人々に合意されている意見のことを何というか、答えなさい。 []
- (3) テレビや新聞などのように、国民に政治に関するさまざまなことを伝え、(2)の形成に大きく関与しているものは何か。カタカナで答えなさい。 []

1 右の表は、ある日の内閣総理大臣のスケジュールを示したものである。これについて、次の問いに答えなさい。

- (1) 下線 a について、予算委員会は両院に常に置かれている。このような委員会を何と
いうか、答えなさい。

[]

- (2) 委員会で審議された議案は、その後本会議で審議される。ある本会議で、予算委員会で審議された内容が報告され、予算に関する討論が行われた。この国会の種類は何か、答えなさい。

[]

【○月○日】

08:30	公邸を出発
08:45	国会に到着 衆議院 a 予算委員会出席
11:30	衆議院予算委員会休憩
12:00	昼食
13:00	衆議院予算委員会再開
17:00	衆議院予算委員会終了
18:00	会食

- (3) 予算の審議・議決について述べた文として**不適当なもの**を次から1つ選び、記号で答えなさい。

ア 予算は衆議院が先に審議する。 []

イ 必ず公聴会が開かれる。

ウ 予算は財務省による予算原案をもとに内閣が作成する。

エ 予算委員会は各議院の全議員で構成される。

- (4) 予算の審議・議決以外の国会のしごととして**不適当なもの**を次から2つ選び、記号で答えなさい。

ア 条約の締結

イ 内閣総理大臣の指名

ウ 国政調査権の行使 []

エ 外交関係の処理

オ 弾劾裁判所の設置 []

2 次の日本国憲法の条文を読んで、あとの問いに答えなさい。

第60条② 予算について、参議院で衆議院と異なった議決をした場合に、…(中略)…又は参議院が、衆議院の可決した予算を受け取った後、国会休会中の期間を除いて30日以内に、議決しないときは、衆議院の議決を国会の議決とする。

- (1) 第60条などに見られるように、憲法ではいくつかの点で衆議院に参議院より強い権限を与えている。このことを何と
いうか、答えなさい。 []

- (2) 衆議院に参議院より強い権限が与えられているのはなぜか。その理由を答えなさい。

[]

- (3) 衆議院と参議院が異なった議決をした場合、両院の意見の調整を図るために開かれる会議を何と
いうか、答えなさい。 []

- (4) 第60条の内容以外にも、衆議院に参議院より強い権限が認められているものがある。それは何か。次の憲法の条文に関係する事項を答えなさい。 []

第67条② 衆議院と参議院とが異なった指名の議決をした場合に、…(中略)…、又は衆議院が指名の議決をした後、国会休会中の期間を除いて10日以内に、参議院が、指名の議決をしないときは、衆議院の議決を国会の議決とする。

1 内閣のしごとについて示した次の表を見て、あとの問いに答えなさい。

内閣のしごと	
1	あ法律を執行する。
2	い衆議院の解散を行う。
3	(A)
4	(B) の指名と (C) の任命を行う。
5	恩赦の決定を行う。
6	天皇の (D) に対して助言と承認を与える。

- (1) 下線あについて、法律を実施するために、内閣によって制定されるきまりのことを何というか、答えなさい。 []
- (2) 下線いについて、次の問いに答えなさい。
- ① 衆議院の解散は、内閣不信任案が可決された場合などに行われる。これに関して、内閣不信任案が可決されるのに必要な条件として最も適当なものを次から1つ選び、記号で答えなさい。
- ア 衆・参両議院の決議 []
- イ 参議院の決議
- ウ 衆議院の決議
- エ 衆・参両議院の決議と、国民投票での過半数の賛成
- ② 内閣不信任案が可決されたとき、憲法で定められる期間内に衆議院を解散しなかった場合、内閣はどうしなければならないか、簡潔に答えなさい。
- []
- (3) (A) にあてはまる内閣のしごととして最も適当なものを次から1つ選び、記号で答えなさい。
- ア 法律を制定する。 []
- イ 令状を交付する。
- ウ 予算を作成する。
- エ 条約を承認する。
- (4) (B) と (C) にあてはまる語句の組み合わせとして最も適当なものを次から1つ選び、記号で答えなさい。 []
- ア B = 衆議院議長 C = 最高裁判所長官
- イ B = 最高裁判所長官 C = 衆議院議長
- ウ B = 衆議院議長 C = 参議院議長
- エ B = 最高裁判所長官 C = その他の裁判官
- (5) (D) にあてはまる、天皇が行う、形式的・儀礼的行為を何というか、答えなさい。 []
- (6) 内閣総理大臣に与えられている権限として不適当なものを次から1つ選び、記号で答えなさい。
- ア 内閣を代表して議案を国会に提出する。 []
- イ 行政各部を指揮監督する。
- ウ 国務大臣を任命および罷免する。
- エ 弾劾裁判所を設ける。

1 次の日本国憲法の条文を読んで、あとの問いに答えなさい。

第76条① すべて司法権は、**a** 最高裁判所及び法律の定めるところにより設置する **b** 下級裁判所に属する。

③ すべて裁判官は、その (X) に従い (Y) してその職権を行い、この憲法及び法律にのみ拘束される。

第78条 裁判官は、裁判により、心身の故障のために職務を執ることができないと決定された場合を除いては、**c** 公の弾劾によらなければ罷免されない。裁判官の懲戒処分は、行政機関がこれを行うことはできない。

□(1) 下線 **a** について、次の問いに答えなさい。

□① 最高裁判所の長官以外の裁判官の任命について述べた文として最も適当なものを次から1つ選び、記号で答えなさい。 []

ア 内閣の指名にもとづいて天皇が任命する。 イ 国会の指名にもとづいて天皇が任命する。
ウ 内閣が任命する。 エ 国会が任命する。

□② 最高裁判所裁判官が、初めて国民審査を受けるのはいつか。最も適当なものを次から1つ選び、記号で答えなさい。 []

ア 任命後初めて行われる衆議院選挙のとき。
イ 任命後初めて行われる参議院選挙のとき。
ウ 任命後10年を経過した後、初めて行われる衆議院選挙のとき。
エ 任命後10年を経過した後、初めて行われる参議院選挙のとき。

□(2) 下線 **b** について、次の問いに答えなさい。

□① 一般に、少年事件の審判が最初に行われる下級裁判所はどこか、答えなさい。 []

□② 高等裁判所について述べた文として最も適当なものを次から1つ選び、記号で答えなさい。

ア 各都道府県に1か所設置されている、おもに第2審を扱う裁判所。 []
イ 各都道府県に1か所設置されている、おもに第3審を扱う裁判所。
ウ 全国に8か所設置されている、おもに第2審を扱う裁判所。
エ 全国に8か所設置されている、おもに第3審を扱う裁判所。

□(3) (X), (Y) にあてはまる語句の組み合わせとして最も適当なものを次から1つ選び、記号で答えなさい。 []

ア X = 理想, Y = 独立 イ X = 理想, Y = 共同
ウ X = 良心, Y = 独立 エ X = 良心, Y = 共同

□(4) 下線 **c** に関して、弾劾裁判について述べた文として最も適当なものを次から1つ選び、記号で答えなさい。 []

ア 国務大臣の代表者数名によって行われる。 イ 国会議員の代表者十数名によって行われる。
ウ 最高裁判所長官によって行われる。 エ 国民の代表者十数名によって行われる。

□(5) 右の図中の (a), (b) にあてはまる最も適当な語句を次から1つずつ選び、記号で答えなさい。 a []

ア 行政処分の違憲審査 イ 国務大臣の指名 b []
ウ 内閣不信任の決議 エ 国務大臣の罷免
オ 参議院の解散 カ 衆議院の解散
キ 議長の名 ク 国会議員の弾劾

