

6

中世

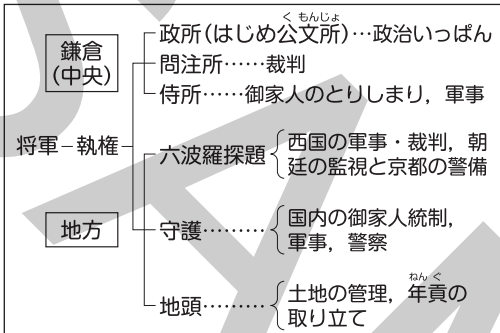
学習日

/

1 鎌倉時代

(1) 鎌倉幕府の成立

- 1192年、源頼朝は朝廷から征夷大將軍に任命されました。
- 鎌倉幕府のしくみ…將軍と御家人が領地をなかだちにして御恩と奉公による主従関係を結んでいました。



- 執権政治…源頼朝の死後、北条氏が執権とよばれる役職について政治の実権をにぎりました。
- 承久の乱…後鳥羽上皇が挙兵しました。この乱後、京都に六波羅探題が設置されました。
- 御成敗式目（貞永式目）…第3代執権北条泰時が、裁判の基準を定めました。

年代	できごと
1192	源頼朝が征夷大將軍に任命される。
1221	承久の乱がおこる。
1232	御成敗式目が制定される。
1274	文永の役がおこる。
1281	弘安の役がおこる。
1333	鎌倉幕府が減じる。
1334	建武の新政が始まる。
1338	足利尊氏が征夷大將軍に任命される。
1404	勘合貿易が始まる。
1428	正長の土一揆がおこる。
1467	応仁の乱がおこる。
1485	山城国一揆がおこる。
1488	加賀の一向一揆がおこる。
1573	室町幕府が減じる。

(2) 鎌倉幕府のおとろえ

- 元寇…第8代執権北条時宗のときに、元軍が2度にわたって日本に襲来しました。このときの元の皇帝はフビライ・ハンでした。元寇の際、御家人は幕府から十分な恩賞を受け取ることができず、生活に苦しむようになりました。幕府は徳政令を出しましたが、さらに社会が混乱しました。
- 後醍醐天皇らが挙兵し、鎌倉幕府が滅亡しました。その後、建武の新政が行われましたが2年ほどで終わりを迎えました。足利尊氏が挙兵して京都に新しい天皇をたて（北朝）、征夷大將軍に任命されて幕府を開きました。後醍醐天皇は吉野に逃れて南朝を開きました。

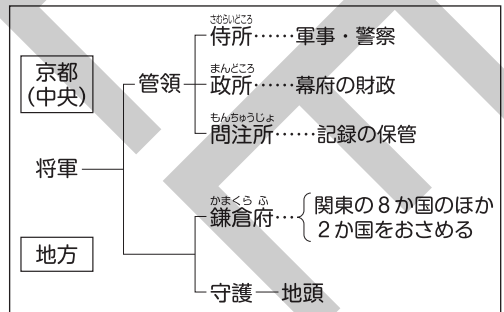
2 室町時代

(1) 室町幕府…將軍足利義満は南北朝の合一を実現しました。

義満は、勘合貿易を始めたり、金閣を建てたりしたことで知られています。

(2) 室町幕府のおとろえ…將軍足利義政の後つぎをめぐる問題などから応仁の乱がおこりました。

このころから下剋上の風潮が見られるようになりました。義政は、銀閣を建てたことなどで知られています。



(3) 室町時代の社会

- 農村では、寄合が開かれ、惣（惣村）が出現しました。農民たちは、しばしば一揆をおこすようになりました。
- 港町や門前町が発達し、明銭や宋銭が取り引きに利用されるようになりました。土倉や酒屋といった高利貸しが現れるようになり、馬借や問屋も活躍しました。

# 確認問題

## 1 鎌倉時代

- (1) 1185年に国ごとに置かれ、軍事や警察の仕事にあたった役職を何と  
いいますか。
- (2) 1185年に荘園や公領ごとに置かれ、年貢の取り立てにあたった役職  
を何といいますか。
- (3) 1192年に征夷大將軍に任命され、鎌倉幕府を開いた人物はだれです  
か。
- (4) 將軍が御家人に対して、領地を保障したり、新しく領地を与えたり  
したことをまとめて何といいますか。
- (5) 承久の乱について、次の問いに答えなさい。
- ① この乱をおこした人物はだれですか。
- ② 承久の乱ののち、幕府が朝廷や西国の監視のために京都に置いた  
機関を何といいますか。
- (6) 1232年に定められた、最初の武家の法律について、次の問いに答え  
なさい。
- ① この法律を何といいますか。
- ② この法律を定めた人物はだれですか。
- (7) 元寇について、次の問いに答えなさい。
- ① 元寇のときの執権はだれですか。
- ② 元寇ののちの1297年、生活に苦しむ御家人を救うために、幕府が  
出した、御家人の借金を帳消しにする法令を何といいますか。
- (8) 鎌倉幕府を倒した天皇について、次の問いに答えなさい。
- ① この天皇はだれですか。
- ② この天皇が行い、短期間で終わりを迎えた、公家を中心とした政  
治を何といいますか。

## 2 室町時代

- (1) 14世紀前半に征夷大將軍に任命され、幕府を開いた人物はだれです  
か。
- (2) 15世紀の初めに勘合貿易を開始した人物について、次の問いに答え  
なさい。
- ① この人物はだれですか。
- ② この人物が京都の北山に建てた別荘を何といいますか。
- (3) 足利義政について、次の問いに答えなさい。
- ① この人物の後継者争いなどから、京都を中心に11年あまり続いた  
争乱を何といいますか。
- ② この人物が活躍していたころに栄えた東山文化の時代に見られる  
ようになった、現在の和風建築のもととなった建築様式を何とい  
いますか。

(1) \_\_\_\_\_

(2) \_\_\_\_\_

(3) \_\_\_\_\_

(4) \_\_\_\_\_

(5) \_\_\_\_\_

① \_\_\_\_\_

② \_\_\_\_\_

(6) \_\_\_\_\_

① \_\_\_\_\_

② \_\_\_\_\_

(7) \_\_\_\_\_

① \_\_\_\_\_

② \_\_\_\_\_

(8) \_\_\_\_\_

① \_\_\_\_\_

② \_\_\_\_\_

(1) \_\_\_\_\_

(2) \_\_\_\_\_

① \_\_\_\_\_

② \_\_\_\_\_

(3) \_\_\_\_\_

① \_\_\_\_\_

② \_\_\_\_\_

# 練成問題

1 次の文章を読んで、あとの問いに答えなさい。

日本中の（あ）ども、昔は3年の京都の警備のとき、一生の大事と考え、身分の低い従者にいたるまでが晴れやかに着飾って都に上ったが、帰るときには疲れはてて、はだしでもどってきたものだ。それを今は亡きい源頼朝公が哀れに思われて3年を半年に縮め、…これほどお情け深くしてくださったみ心を忘れて京都の朝廷方へ行くのですか。

□(1) この文章は、承久の乱の際にある人物が行った演説の部分要約です。この人物の姓名を答えなさい。

(1) \_\_\_\_\_

□(2) （あ）について、次の問いに答えなさい。

(2)

□① （あ）には、将軍と土地をなかだちとして主従関係を結んだ武士を表す語句があてはまります。この語句を答えなさい。

① \_\_\_\_\_

□② （あ）と将軍が土地をなかだちにして主従関係で結ばれ、これらの武士たちが農民を支配して年貢や労役を課すことによって成立した社会のしくみを何といいますか、答えなさい。

② \_\_\_\_\_

□③ （あ）は将軍の御恩に対して「いぎ鎌倉」というときには何をする必要がありましたか、答えなさい。

③ \_\_\_\_\_

□(3) 下線いが設置した役職について誤って述べているものを次から1つ選び、記号で答えなさい。

ア 荘園や公領ごとに、年貢の取り立てのため地頭を置きました。

イ 国ごとに、警察と軍事のため守護を置きました。

ウ 鎌倉に、一般の幕政や財政にあたらせるため侍所を置きました。

エ 鎌倉に、訴訟の処理にあたらせるため問注所を置きました。

(3) \_\_\_\_\_

□(4) この文章の時代について、次の問いに答えなさい。

□① この時代のころに禅宗を伝えた僧の正しい組み合わせを次から1つ選び、記号で答えなさい。

ア 鑑真・行基    イ 空海・最澄

ウ 法然・親鸞    エ 道元・栄西



(4)

① \_\_\_\_\_

□② 右の図は、この時代に運慶・快慶によってつくられた金剛力士像です。これが置かれている寺院を次から1つ選び、記号で答えなさい。

ア 法隆寺    イ 東大寺    ウ 延暦寺    エ 円覚寺

② \_\_\_\_\_

□(5) この時代の農業や農村について誤って述べているものを次から1つ選び、記号で答えなさい。

ア 近畿地方を中心に二毛作が行われました。

イ 牛や馬に鉄のすきを引かせて田畑を深く耕しました。

ウ 月に6回の定期市が開かれるようになりました。

エ 武具やなべなど日用品をつくる職人が現れました。

(5) \_\_\_\_\_


2 次の文章を読んで、あとの問いに答えなさい。

あ室町幕府は、い足利義満の時代に最盛期を迎えました。義満はう勘合貿易によって幕府の財政を安定させ、京都の北山に（ ）とよばれる別荘を建てました。しかしえ義満の死後、幕府の力はおとろえ、秩序が乱れていきました。

- (1) 下線あについて、室町幕府で、将軍の下に置かれ実際の政治にあたった役職を答えなさい。
- (2) 下線いについて、次の問いに答えなさい。
- ① 室町時代には一国や複数の国を領国化した守護が出現し、足利義満は幕府に反抗的なこれらの守護のいくつかを減ぼしました。このような守護を何といいますか、答えなさい。
- ② 足利義満が保護した観阿弥・世阿弥が大成した芸能を何といいますか、答えなさい。
- (3) 下線うは、当時中国沿岸で活動していた海賊を日本が取りしめることとひきかえに開始されました。この海賊を何といいますか、答えなさい。
- (4) ( ) にあてはまる語句を答えなさい。
- (5) 下線えについて、次の問いに答えなさい。
- ① 次の文章は、正長の土一揆のようすを記した史料の部分要約です。これについて、あとの問いに答えなさい。

天下の土民たちが一斉に蜂起して「( A )」とって ( B ) などを破壊し、質に入っている品物を勝手に取り出し、借金の証文もみな破って捨てた。

- 1 ( A ) にあてはまる、借金を帳消しにすることを意味する語句を答えなさい。
- 2 ( B ) にあてはまる高利貸業者の正しい組み合わせを次から1つ選び、記号で答えなさい。
- ア 馬借と車借    イ 土倉と酒屋  
ウ 座と関所    エ 惣(惣村)と寄合
- ② この時代に広まっていった、身分の下の者が上の者に実力でとってかわる風潮を何といいますか。
- ③ 右の図は、この時代に流行した建築様式を表しています。このような建築様式を何といいますか、答えなさい。
- ④ この時代に栄えた文化の特色について述べた文として最も適当なものを次から1つ選び、記号で答えなさい。
- ア 仏教や唐の文化の影響を強く受けた文化です。  
イ 新興の武士の気風を反映した、素朴で力強い文化です。  
ウ 公家と武家の文化がとけあってできた気品のある文化です。  
エ 日本の風土や日本人の生活感情にあった日本独特の文化です。



(1) \_\_\_\_\_

(2) \_\_\_\_\_

① \_\_\_\_\_

② \_\_\_\_\_

(3) \_\_\_\_\_

(4) \_\_\_\_\_

(5) \_\_\_\_\_

① \_\_\_\_\_

1 \_\_\_\_\_

2 \_\_\_\_\_

② \_\_\_\_\_

③ \_\_\_\_\_

④ \_\_\_\_\_