

最新 入試小問トレーニング社会 1400

■本書の特色

このテキストは、全国の公立高校入試で出題された問題のうち、小問・単問を地理、歴史、公民分野の学習項目ごとに細分化し、それぞれをトレーニング①、②、③として3年分収録したものです。同じ学習内容であってもさまざまな角度から問われる入試問題への対応力を身に付けたり、苦手分野を反復演習することで弱点を補強したりできるように編集されています。

■本書の構成

公立高校入試で出題された小問・単問を、学習項目ごとに細分化して1つのトレーニングとしています。トレーニング①、②、③と進めることで、それぞれの学習項目の過去問を3年分演習することができます。下の「入試トレーニングチェック表」を利用して、学習項目や進捗を確認することができます。

入試トレーニングチェック表

単元 番号	単元名	ページ	トレーニング①		トレーニング②		トレーニング③		
			番号	学習日	番号	学習日	番号	学習日	
1	地理	世界のすがた	p2	(1)~(23)	/	(1)~(18)	/	(1)~(10)	/
		世界の諸地域	p7	(1)~(45)	/	(1)~(59)	/	(1)~(28)	/
		日本のすがた	p20	(1)~(13)	/	(1)~(3)	/	(1)~(6)	/
		時差	p23	(1)~(8)	/	(1)~(6)	/	(1)~(5)	/
		世界から見た日本	p26	(1)~(40)	/	(1)~(27)	/	(1)~(39)	/
		日本の諸地域	p35	(1)~(33)	/	(1)~(38)	/	(1)~(28)	/
		地理総合・その他	p44	(1)~(12)	/	(1)~(18)	/	(1)~(30)	/
2	歴史	古墳時代まで	p52	(1)~(11)	/	(1)~(8)	/	(1)~(10)	/
		飛鳥時代	p55	(1)~(10)	/	(1)~(7)	/	(1)~(8)	/
		奈良時代	p58	(1)~(16)	/	(1)~(9)	/	(1)~(8)	/
		平安時代	p61	(1)~(12)	/	(1)~(10)	/	(1)~(10)	/
		鎌倉時代	p64	(1)~(10)	/	(1)~(10)	/	(1)~(8)	/
		室町~安土桃山時代	p67	(1)~(24)	/	(1)~(20)	/	(1)~(21)	/
		江戸時代	p73	(1)~(33)	/	(1)~(30)	/	(1)~(32)	/
		明治時代	p81	(1)~(25)	/	(1)~(33)	/	(1)~(16)	/
		大正時代	p87	(1)~(15)	/	(1)~(21)	/	(1)~(9)	/
		昭和時代	p93	(1)~(17)	/	(1)~(21)	/	(1)~(17)	/
		歴史総合・その他	p99	(1)~(16)	/	(1)~(29)	/	(1)~(39)	/
3	公民	基本的人権・日本国憲法	p108	(1)~(29)	/	(1)~(20)	/	(1)~(33)	/
		政治	p115	(1)~(47)	/	(1)~(46)	/	(1)~(39)	/
		経済	p125	(1)~(42)	/	(1)~(43)	/	(1)~(47)	/
		国際社会・その他	p136	(1)~(17)	/	(1)~(14)	/	(1)~(31)	/

【世界のすがたのトレーニング①】

□(1) 三大洋のうち、インドネシアが面している二つの海洋の名称をそれぞれ答えなさい。 (埼玉)

□(2) 次の文章中の(A), (B)にあてはまる語句の組み合わせとして正しいものをあとから1つ選び、記号で答えなさい。 (埼玉)

地球上の各地点の位置は、緯度と経度を使って表すことができる。緯度は、(A)を0度として、それより北側を北緯、南側を南緯と呼び、それぞれを90度に分けたものである。経度は(B)を0度として、それより東側を東経、西側を西経と呼び、それぞれを180度に分けたものである。

ア A-赤道 B-本初子午線

イ A-回帰線 B-本初子午線

ウ A-赤道 B-日付変更線

エ A-回帰線 B-日付変更線

□(3) イギリスを通る経度0度の経線を何というか。答えなさい。 (和歌山)

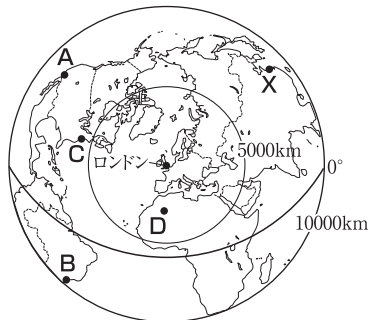
□(4) ある地点は「北緯30度、東経45度」の位置にある。この地点の、地球上の正反対にある地点の位置を緯度、経度を用いて表したものと最も適当なものを次から1つ選び、記号で答えなさい。 (千葉(前期))

ア 南緯30度、西経45度 イ 南緯30度、西経135度

ウ 南緯60度、西経135度 エ 南緯60度、西経45度

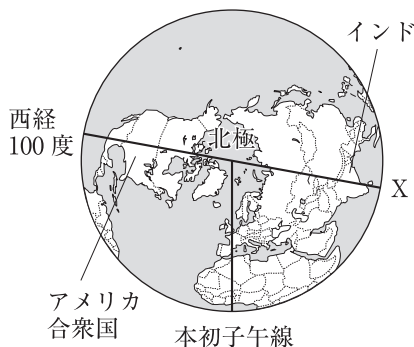
□(5) 次の略地図について、ロンドンから見て、Xはどの方位に位置するか。八方位で答えなさい。また、A~Dの都市をロンドンから直線距離で近い順に並べたときに3番目になる都市を1つ選び、記号で答えなさい。 (青森)

ロンドンからの距離と方位が正しい地図

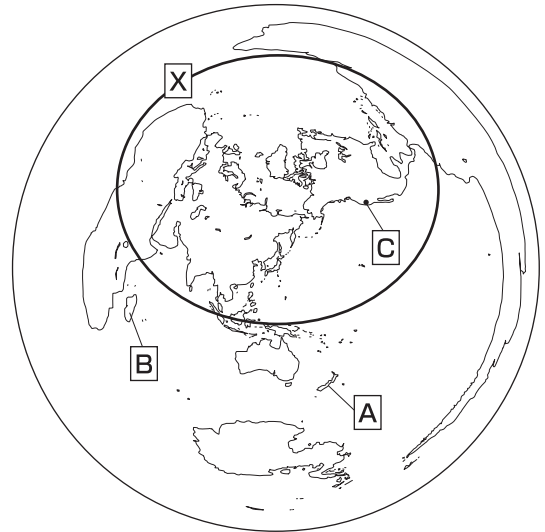


(注) ロンドンを中心とし、半径10000kmまでの範囲を表している。

□(6) 次の図は、北極を中心に描いた略地図である。アメリカ合衆国のほぼ中央を通る西経100度の経線は、インドのほぼ中央を通る経線Xに対して地球の裏側の経線になる。経線Xの経度は何度か。「東経」「西経」のどちらかをつけて答えなさい。 (岩手)



□(7) 次の図は、東京を中心として、中心からの距離と方位が正しく表されている地図である。あとの問いに答えなさい。 (兵庫)



□① 図中のXの緯線が表すものを何というか。漢字で答えなさい。

□② 図に関して述べた文として最も適当なものを次から1つ選び、記号で答えなさい。

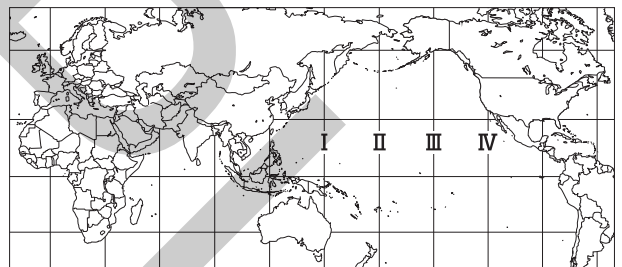
ア 東京から見て、ブラジルは南南東にある。

イ 六大陸のうち、南極大陸は表示されていない。

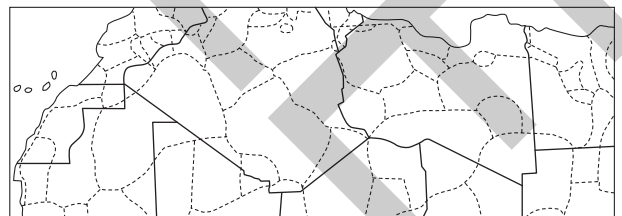
ウ 東京からAの島までの距離は、東京から北極点までよりも遠い。

エ 東京とBの島を最短距離で結んだ場合、本初子午線を通過する。

□(8) 次の略地図中のI~IVで示した経線のうち、180度線を示すものはどれか。1つ選び、記号で答えなさい。 (新潟)



□(9) 次の資料の国境線には、かつてヨーロッパの国々が、民族分布とは関係なく領土を分割していた特徴が見られる。その特徴とはどのようなことかを答えなさい。 (鹿児島)



—— は国境線を示す。(国境線の一部に未確定部分がある。)

----- は民族分布のおよその範囲を示す。

□(10) オーストラリアは、世界を6つの州に分けたとき、何という州に属しているか。州名を答えなさい。 (和歌山)

□(11) イタリア、ガーナ、インド、ブラジルは、世界を分ける六つの州のうち、それぞれいずれかの州に属する。これらの4か国のいずれの国も属さない州の名前を二つ答えなさい。 (山形)

- (12) 世界を6つの州に分けたとき、ドイツ、エジプト、タイ、オーストラリア、カナダのいずれも属していない州の名前を答えなさい。
 (石川)
- (13) 次の資料は、世界の6つの州の州別人口割合を表している。アフリカ州について表しているものをa～fから1つ選び、記号で答えなさい。
 (青森)

a 60.1%	b 15.3	c 10.5	d 7.9	e 5.7	f 0.5
------------	-----------	-----------	----------	----------	----------

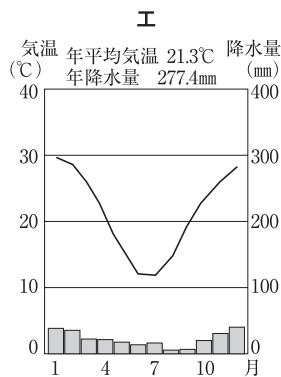
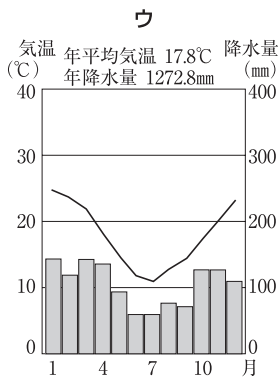
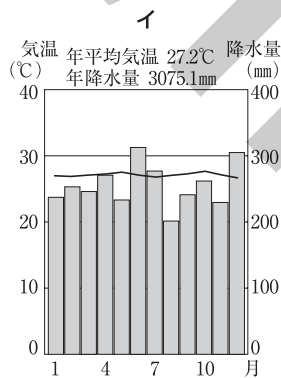
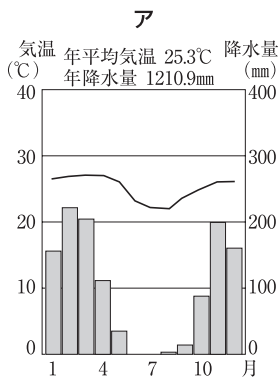
(注) ロシア連邦はヨーロッパ州に含む。
 (『世界人口年鑑』2012年版ほか)

- (14) ロシア連邦、インドネシア、オーストラリアのうち、国土のすべてが南半球に位置する国を1つ選び、その国名を答えなさい。
 (宮崎)
- (15) イタリアで見られる気候について述べた文として最も適当なものを次から1つ選び、記号で答えなさい。
 (北海道)
- ア 温帯に属し、はっきりとした四季があり、夏に乾燥し冬に雨がが多い。
- イ 乾燥帯に属し、一年を通して降水量は少ないが、雨の降る期間がある。
- ウ 熱帯に属し、一年を通して気温が高く、雨季と乾季がある。



- (16) 右の資料は、イタリアで生産される、ある農産物である。資料の農産物の実をしばってつくった油は、料理に使われる。資料の農産物は何か。答えなさい。
 (山形)


- (17) ある生徒は、ブエノスアイレスの気候について調べたところ、東京と同じ気候帯に属することを知った。ブエノスアイレスの気温と降水量を表したグラフとして最も適当なものを次から1つ選び、記号で答えなさい。
 (宮城)



(平成29年版「理科年表」)

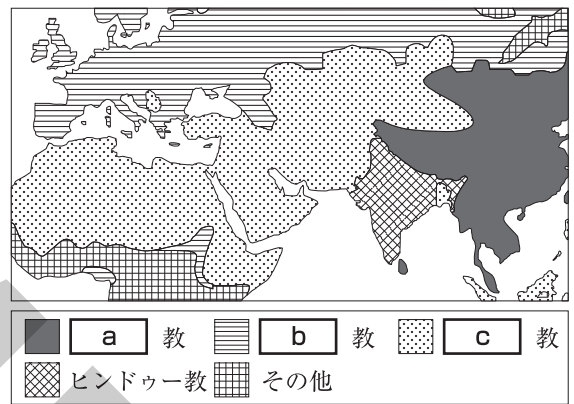
- (18) エチオピアは、国土が全く海に面していない。このような国土が全く海に面していない国は、一般に何と呼ばれるか。その呼び名を答えなさい。
 (香川)

- (19) 右の図は、ある宗教を信仰する外国人に配慮して、日本語がわからない場合でも安心してレストランを利用できるよう用意された表示である。この表示が配慮の対象としているのは、どの宗教を信仰している人々か。最も適当なものを次から1つ選び、記号で答えなさい。
 (岩手)



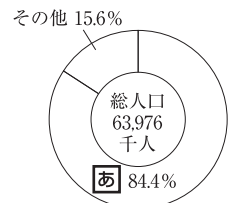
- ア イスラム教 イ キリスト教
 ウ ヒンドゥー教 エ 仏教

- (20) 次の図は宗教分布を示したものである。a～cにあてはまる語句をそれぞれ答えなさい。ただし、実際には多くの地域でさまざまな宗教が混在しており、境界線はおおよその目安を示している。
 (北海道)



(改訂 開発教育・国際理解教育ハンドブック)

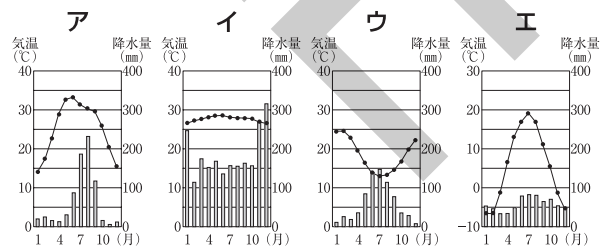
- (21) 右の資料は、エジプトの総人口に占める宗教別人口の割合を示したものである。資料のaにあてはまる宗教を開いた人物はだれか。最も適当なものを次から1つ選び、記号で答えなさい。
 (三重)



- ア イエス イ 孔子
 ウ シャカ エ ムハンマド

[注: 数値は2000年のもの。]
 (2017年版「データブック オブ・ザ・ワールド」ほか)

- (22) 右の略地図中の◎は、インドの首都の位置を示している。インドの首都の雨温図を表したグラフとして最も適当なものを次から1つ選び、記号で答えなさい。
 (山形)



(平成28年版「理科年表」)

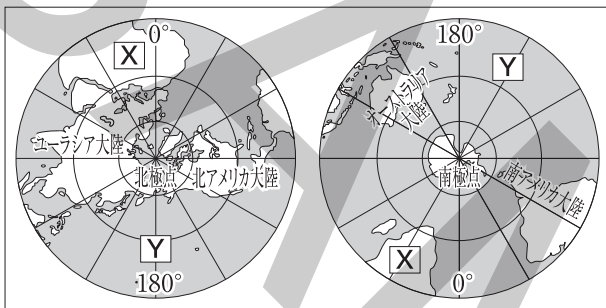
- (23) 北半球と南半球の中緯度帯では、その上空を、西寄りの風が一年中吹いている。この風は何と呼ばれるか。その名称を答えなさい。
 (静岡)

【世界のすがたのトレーニング②】

- (1) ベルーが位置する州名を答えなさい。 (山梨)
- (2) エチオピアがある大陸名を答えなさい。 (埼玉)
- (3) 世界の六大陸の中で、右の表で示した世界遺産の多い国上位12か国が最も多く位置する大陸名を答えなさい。 (宮崎)
- (4) オーストラリア大陸は何という州にあたるか、答えなさい。 (沖縄)
- (5) 世界は大きく6つの州に分けられる。オーストラリアが属する州の名を答えなさい。 (鹿児島)
- (6) 次の略地図中のXの大陸名とYの海洋名を答えなさい。 (長野)

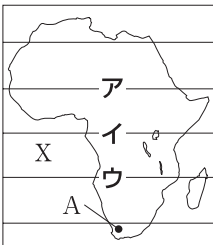
順位	国名	世界遺産の登録件数
1	イタリア	54
2	中国	53
3	スペイン	47
4	ドイツ	44
5	フランス	44
6	インド	37
7	メキシコ	35
8	イギリス	31
9	ロシア	28
10	イラン	23
11	アメリカ	23
12	日本	22

(「外務省資料」ほか)



- (7) 次の略地図1, 2を見て、あとの問いに答えなさい。 (岐阜)

略地図1



略地図2



注：略地図1, 2には赤道と赤道から15度ごとの緯線が示してある。

- ① 略地図1, 2において、赤道を示す線はどれか。ア～カから2つ選び、記号で答えなさい。
- ② 次の資料のように東京と略地図1中のA地点との距離を求めた。この手順で求めたときの距離を答えなさい。ただし、北極と南極との間の距離を20,000kmとする。

東京とA地点との距離を求めるために行った作業
 手順1 地球儀上の北極と南極を最短コースとなるように紙テープで結び、それを20等分して目盛りを付けた。
 手順2 紙テープを地球儀上の東京とA地点に当て、目盛りを読み取ると14目盛りであった。

- ③ 略地図1, 2中のXの大洋の名を漢字で答えなさい。
- (8) 経度0度の線を何というか、答えなさい。 (青森)
- (9) 経度0度の線が通るロンドンを首都とする国名を答えなさい。 (北海道)

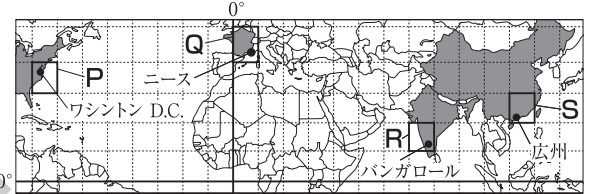
- (10) 日本の国土はおおよそ東経120度～東経155度、北緯20度～北緯50度に位置する。国土が日本の経度、緯度の範囲といずれとも重ならない国を次から1つ選び、記号で答えなさい。 (沖縄)
- ア イラン イ オーストラリア
 ウ ブラジル エ アメリカ合衆国

- (11) マゼランら遠征隊の航海について述べようとした次の文章中の(あ), (い)にあてはまる語句の組み合わせとして最も適当なものをあとから1つ選び、番号で答えなさい。 (神奈川)

遠征隊の航海が終わりに近づいたころ、彼らは自分たちの記録による日付と立ち寄った上陸地の日付が1日ずれていることに気がついた。現在は、ほぼ(あ)の経線に沿って設けられている日付変更線を東から西へ越える場合には、日付を1日(い)必要がある。

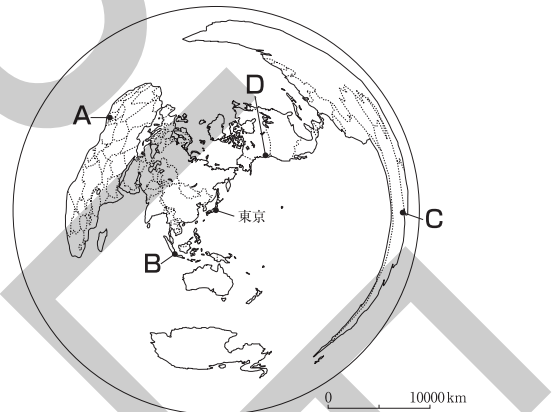
- 1 あ：90度、い：進める 2 あ：90度、い：遅らせる
 3 あ：180度、い：進める 4 あ：180度、い：遅らせる

- (12) 次の図中のP～Sで示されたそれぞれの範囲の陸地と海洋を合わせた面積を比べたとき、地球上における実際の面積が最も小さいものを1つ選び、記号で答えなさい。また、図中に示した都市の中で、最も早く2019年1月1日をむかえた都市をあとから1つ選び、番号で答えなさい。 (京都)



- 1 ワシントンD.C. 2 ニース
 3 バンガロール 4 広州

- (13) 次の略地図中の東京とA～Dの都市との位置関係について正しく述べたものとして最も適当なものをあとから1つ選び、記号で答えなさい。 (千葉(後期))



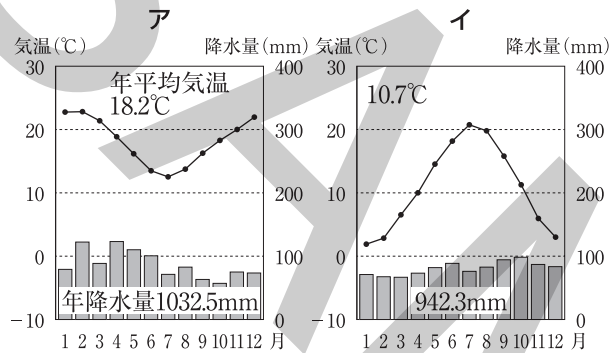
- ア Aは東京から見て、ほぼ北西の方向にあり、A～Dの都市のうち最も東京から遠い。
 イ Bは東京から見て、ほぼ南東の方向にあり、A～Dの都市のうち最も東京に近い。
 ウ Cは東京から見て、ほぼ西の方向にあり、A～Dの都市のうち3番目に東京に近い。
 エ Dは東京から見て、ほぼ北東の方向にあり、A～Dの都市のうち2番目に東京に近い。

- (14) 東京から真西に進み、地球を1周して東京に戻るとすると、最後に通過するのは六大陸のうちのどれか。次の略地図を参考にして答えなさい。 (富山)

東京からの距離と方位が正しい地図



- (15) 次のア～エの雨温図は、あとの4つの都市のいずれかのものである。クスコの雨温図を1つ選び、記号で答えなさい。 (山梨)



(2019年版「理科年表」ほか)

クスコ(ペルー) ジュネーブ(スイス)
 カイロ(エジプト) シドニー(オーストラリア)

- (16) シベリア地方の建物には、高床の工夫が見られる。その理由を述べた次の文中の()にあてはまる最も適当な語句を答えなさい。 (岡山)

高床の工夫が見られるのは、特有の土壌である()が生活の熱などでとけ、建物が傾いたり、ゆがんだりすることを防ぐためである。

- (17) タイに住む多くの人々が信仰している宗教として最も適当なものを次から1つ選び、記号で答えなさい。 (新潟)

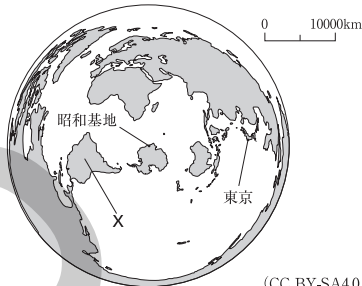
- ア キリスト教
- イ イスラム教
- ウ 仏教
- エ ヒンドゥー教

- (18) インドで最も多くの人々に信仰されている宗教について調べ、次のようにまとめた。文章中の(X)にあてはまる語句を答えなさい。 (埼玉)

インドにおいて、最も多くの人々に信仰されている(X)教は、特定の民族や地域と強く結びついて信仰されている宗教の一つである。(X)教では、水で身体を清める沐浴の儀式が重視されている。

【世界のすがたのトレーニング③】

- (1) 略地図は、南極にある日本の昭和基地を中心に、昭和基地からの距離と方位が正しくなるようにつくられた地図である。Xの大陸の名を答えなさい。 <北海道>



(CC BY-SA4.0に基づき作成)

- (2) 三大洋のうち、アメリカ合衆国のある大陸が面している2つの海洋の名称をそれぞれ答えなさい。 <埼玉>
- (3) 世界の6つの州のうち、スイスやフランスが属する州の名を答えなさい。 <長野>
- (4) 7世紀に西アジアでおこり、現在は西アジアを中心に、広い地域で信仰されている宗教がある。この宗教には、信者が聖地に向かって1日5回の礼拝を行うなどの特徴がある。この宗教は何とよばれるか、答えなさい。 <静岡>
- (5) トルコとインドについて、図1は総人口とある宗教の信者数を、図2は、主な家畜の飼育頭数を示したものである。()にあてはまる語句を答えなさい。 <栃木>

図1	総人口	()教の信者数
トルコ(2018年)	8,192万人	7,987万人
インド(2018年)	135,405	19,228

(「データブック オブ・ザ・ワールド」)

図2	牛(千頭)	豚(千頭)	羊(千頭)
トルコ(2016年)	13,994	2	31,508
インド(2016年)	185,987	9,085	63,016

(「世界国勢図会」)

- (6) アルジェリア、トルコにおいて、最も多くの人々が信仰している宗教として最も適当なものを次から1つ選び、記号で答えなさい。 <福島>
- ア イスラム教 イ キリスト教
ウ ヒンドゥー教 エ 仏教
- (7) インドで、最も多くの人に信仰されている宗教名を答えなさい。 <岡山>
- (8) 次の文章は、しょうたさんが、インドについてまとめたレポートの一部である。文章中の(I), (II)にあてはまる語句の組み合わせとして最も適当なものをあとから1つ選び、記号で答えなさい。 <千葉(前期)>

インドでは、最も多くの人々が(I)を信仰しており、この国の社会や人々の暮らしに大きな影響をあたえています。また、(I)では、水で身体をきよめる(II)とよばれる儀式が重視されています。

- ア I = ヒンドゥー教, II = 断食
イ I = ヒンドゥー教, II = 沐浴
ウ I = 仏教, II = 断食
エ I = 仏教, II = 沐浴

- (9) 右の表は、アフリカ大陸、オーストラリア大陸、北アメリカ大陸について、それぞれの大陸における気候帯の分布割合を示したものである。アフリカ大陸にあてはまるものを表中のA~ウから1つ選び、記号で答えなさい。 <鹿児島>

気候帯	大陸	A	イ	ウ
熱帯		16.9%	38.6%	5.2%
乾燥帯		57.2%	46.7%	14.4%
温帯		25.9%	14.7%	13.5%
冷帯(亜寒帯)		-	-	43.4%
寒帯		-	-	23.5%

(地理統計要覧 2019年版)

- (10) 赤道付近にある地域の中でも標高が高い地域では、1年を通して気温が低く、作物はあまり育たない。このような地域の気候を何というか、答えなさい。 <和歌山>