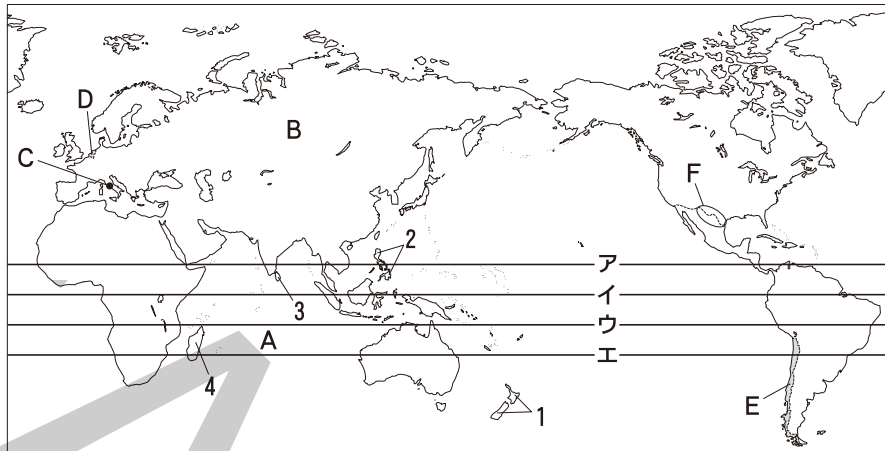


1

世界と日本のすがた

● 基本の確認

1 <世界のすがた> 次の略地図を見て、世界のすがたに関するあとの問いに答えなさい。



□(1) 地球のすがたに関する次の問いに答えなさい。

□① 0度の緯線である赤道として最も適当なものを地図中のア～エから1つ選び、記号で答えなさい。 (1) ① _____

□② 日付変更線は、経度何度の経線にはほぼ沿って引かれているか。最も適当なものを次から1つ選び、記号で答えなさい。

ア 0度 イ 東経90度 ウ 西経90度 エ 180度 (2) ② _____

□③ 地球上の海洋の面積は、地球全体の表面積の約何%を占めているか。 (3) ③ _____

□④ 世界の3大洋のうち、Aで示した海洋を何というか。 (4) ④ _____

□⑤ 世界の6大陸のうち、Bで示した、世界最大の大陸を何というか。 (5) ⑤ _____

□(2) 世界の国々に関する次の問いに答えなさい。 (2) ② _____

□① 独立国の要素は、国民、領土と、あともう1つは何か。 (1) ① _____

□② 日本などのように、国土のまわりを海に囲まれている国を何というか。 (2) ② _____

□③ 世界で最も面積が広い国はどこか。 (3) ③ _____

□④ 世界で最も面積がせまいバチカン市国が位置する、Cで示した都市を何というか。 (4) ④ _____

□⑤ Dで示した国は、国土の多くが海面より低いことに由来した国名となっている。この国の名を答えなさい。 (5) ⑤ _____

□⑥ 1～4で示した島のうち、オセアニア州に含まれるものを1つ選び、番号で答えなさい。 (6) ⑥ _____

□⑦ Eで示した、南アメリカ州に含まれる、4000km以上にわたって国土が南北に細長く連なっている国を何というか。 (7) ⑦ _____

□⑧ Fで示した部分の国境線は、何を利用して引かれているか。次から1つ選び、記号で答えなさい。

ア 川 イ 山脈 ウ 緯線 エ 経線 (8) ⑧ _____

2 <日本のすがた> 次の各問いに答えなさい。

□(1) 右の略地図を見て、日本のすがたに関する次の問いに答えなさい。

□① Aで示した緯線の緯度は北緯何度か。最も適当なものを次から1つ選び、記号で答えなさい。

- ア 北緯25度 イ 北緯35度
ウ 北緯45度 エ 北緯55度

□② 日本の端から端までの長さは、およそ何kmか。最も適当なものを次から1つ選び、記号で答えなさい。

- ア 1500km イ 3000km
ウ 4500km エ 6000km

□③ 国の領域は、領土・領空とあと1つは何か。

□④ 沿岸国が水産資源や海底資源を利用する権利をもつ排他的経済水域は、一般に沿岸から何海里の範囲か。

□⑤ 現在、国後島など北方領土と呼ばれる地域を占拠している国はどこか。

□⑥ Bで示した、日本の最南端に位置する島を何というか。

□⑦ 東京が12月31日の午後10時のとき、イギリスのロンドンは何月何日何時になるか。

□⑧ Cで示した、糸魚川と静岡を結ぶ線が西端にあたる、日本を東日本と西日本に分ける大地溝帯を何というか。カタカナで答えなさい。

□⑨ 現在日本には、1都、1道、2府と、いくつの県があるか。

□⑩ 7つの地方に分けたとき、山梨県は何地方に含まれるか。

□⑪ Dで示した、東北地方を日本海側と太平洋側に分けている山脈を何というか。

□⑫ 九州地方に含まれる県の県庁所在地のうち、都市名と県名が異なる都市はどこか。

□⑬ 山陰地方に含まれる県として最も適当なものを次から1つ選び、記号で答えなさい。

- ア 島根県 イ 広島県
ウ 岡山県 エ 高知県

□(2) 次の説明にあてはまる最も適当な都道府県の名を答えなさい。

□① 日本で最も面積がせまい都道府県である。

□② 内陸に位置するこの都道府県の旧国名は信濃である。

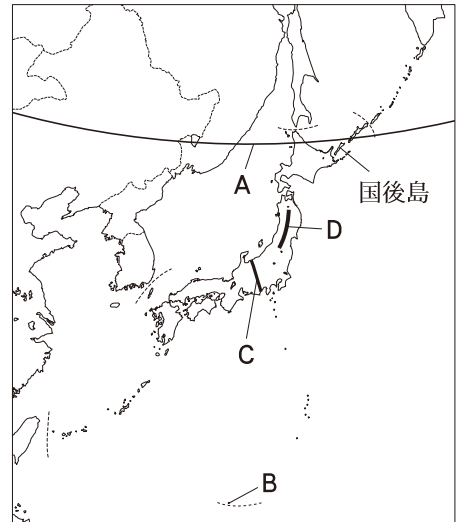
□③ この都道府県の都道府県庁所在地名はひらがなで表される。

□④ 東北地方に位置するこの都道府県は、面積が本州最大となっている。

□⑤ 関東地方に位置する都道府県である。利根川を県境として千葉県ととなりあっている。

□⑥ 近畿地方に位置するこの都道府県は、日本海にも瀬戸内海にも面している。

□⑦ 九州地方に位置する8つの都道府県の中で、この都道府県は最も多くの都道府県と陸上で接している。



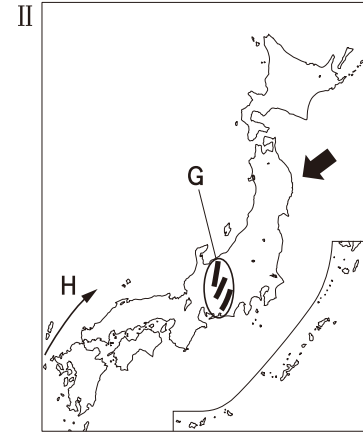
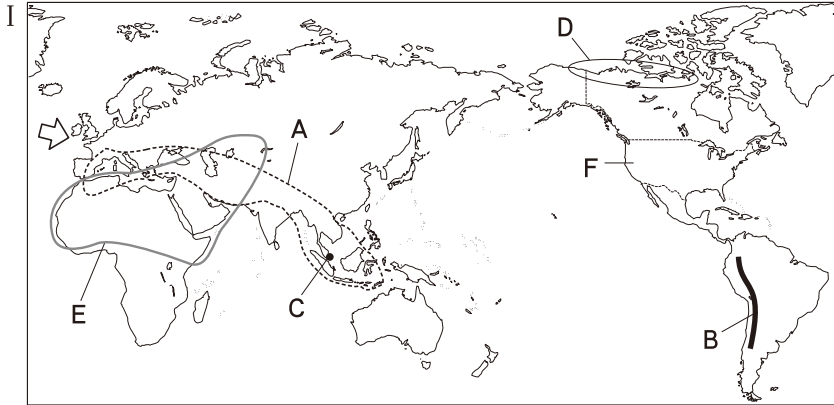
(1)

- ① _____
② _____
③ _____
④ _____
⑤ _____
⑥ _____
⑦ _____
⑧ _____
⑨ _____
⑩ _____
⑪ _____
⑫ _____

(2)

- ① _____
② _____
③ _____
④ _____
⑤ _____
⑥ _____
⑦ _____

3 <世界と日本の自然とくらし> 次のⅠ, Ⅱの略地図を見て, あとの問いに答えなさい。



- (1) 地図Ⅰを見て, 次の問いに答えなさい。
- ① Aで示した造山帯を何というか。
 - ② Bで示した山脈を何というか。
 - ③ ⇨で示した向きで吹く風は, 西ヨーロッパの気候に影響を与えている。1年を通して吹くこの風を何というか。
 - ④ 5つの気候帯のうち, Cで示した都市はどれに属するか。
 - ⑤ Dで示した地域にくらす人々がつくってきた, 氷の上に雪を固めてつみあげた家を何というか。
 - ⑥ 世界の三大宗教のうち, Eで示した地域と, Fで示した国で最も信仰されている宗教はそれぞれ何か。
- (2) 地図Ⅱを見て, 次の問いに答えなさい。
- ① Gで示した3つの山脈をあわせて何というか。
 - ② Hで示した海流を何というか。
 - ③ 東北地方の太平洋側の地域では, 夏に ⇨で示した向きで吹く冷たい風の影響で冷害にみまわれることがある。この風は一般に何と呼ばれているか。

- (1)
- ① _____
- ② _____
- ③ _____
- ④ _____
- ⑤ _____
- ⑥ _____
- E _____
- F _____
- (2)
- ① _____
- ② _____
- ③ _____

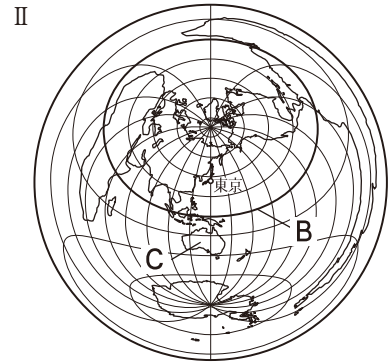
4 <世界と日本の人口> 次の各問いに答えなさい。

- (1) 世界と日本の人口は, それぞれおよそ何人か。次から1つずつ選び, 記号で答えなさい。
- | | |
|---------|---------|
| ア 1.3億人 | イ 3.3億人 |
| ウ 13億人 | エ 33億人 |
| オ 44億人 | カ 54億人 |
| キ 64億人 | ク 74億人 |
- (2) 世界で最も人口が多い国と, 2番目に多い国はそれぞれどこか。
- (3) アジアやアフリカの発展途上国で, 人口が急激に増加している現象を何というか。
- (4) 日本の都市部で見られる, 人口が集中し, 環境汚染や交通渋滞などの問題がおこる現象を何というか。
- (5) 都市の中心部の人口が減少し, 都市の周辺部の人口が増加する現象を何というか。

- (1)
- 世界 _____
- 日本 _____
- (2)
- 1 番目 _____
- 2 番目 _____
- (3) _____
- (4) _____
- (5) _____

練成問題

1 <地球のすがた> 次のⅠ、Ⅱの略地図を見て、地球のすがたに関するあとの問いに答えなさい。



- (1) 地図Ⅰ中にAで示した西経120度の経線を標準時子午線としている地域が、1月1日正午であるとき、日本は何月何日何時か、答えなさい。
- (2) 日本から見て地球のほぼ反対側はどこか。地図Ⅰ中の1～4から1つ選び、番号で答えなさい。
- (3) 世界で最も面積が広い海洋を何というか、答えなさい。
- (4) 地球は球体であるため、形や面積などをすべて正確に平面に表すことができない。このことに関連して、東京を中心として描かれた地図Ⅱの図法の特徴を簡単に説明しなさい。
- (5) 地図Ⅱ中のBを次から1つ選び、記号で答えなさい。
 ア 赤道 イ 北回帰線
 ウ 本初子午線 エ 南回帰線
- (6) 地図Ⅱ中にCで示した大陸の名を答えなさい。

(1) _____

(2) _____

(3) _____

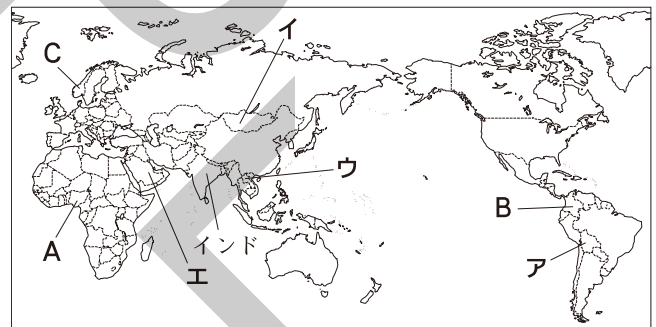
(4) _____

(5) _____

(6) _____

2 <世界の国々> 右の略地図を見て、世界の国々に関する次の問いに答えなさい。

- (1) 国を構成する3つの要素をすべて答えなさい。
- (2) 現在、世界には独立国は約何か国あるか。次から1つ選び、記号で答えなさい。
 ア 135 イ 155 ウ 175 エ 195
- (3) 世界の6つの州のうち、Aで示した国が含まれる州を何というか、答えなさい。
- (4) インドが含まれる地域を次から1つ選び、記号で答えなさい。



- ア 東アジア イ 東南アジア
 ウ 南アジア エ 中央アジア
- (5) Bで示した、探検家コロンブスの名から名付けられた国の名を答えなさい。
- (6) Cで示した国など、極地よりの高緯度地方で夏至のころに見られる、太陽が地平線から深く沈まないで、うす明るい夜が続く現象を何というか、答えなさい。
- (7) 内陸に位置し、伝統的にゲル(パオ)と呼ばれるテントを用いてきた国を地図中のア～エから1つ選び、記号で答えなさい。

(1) _____

(2) _____

(3) _____

(4) _____

(5) _____

(6) _____

(7) _____

3 <日本の国土> 次の文章を読んで、日本の国土に関するあとの問いに答えなさい。

日本の国土は、4つの大きな島と、多くの小さな島々からなっており、日本の国土面積は、およそ(あ)km²となっている。日本の領域は、領海・い領土・(う)からなっており、領海の範囲は沿岸から12海里となっている。

□(1) (あ)にあてはまる最も適当な数字を次から1つ選び、記号で答えなさい。

- ア 1.8万 イ 3.8万 ウ 18万 エ 38万

(1) _____

□(2) 下線いについて、次の問いに答えなさい。

□① 北方領土の1つであり、日本の最も北の端に位置している島を何というか。次から1つ選び、記号で答えなさい。

- ア 択捉島 イ 色丹島
ウ 国後島 エ 奥尻島

(2) _____

① _____

□② 日本には、ある国の軍用地が各地に置かれており、特に沖縄県には、その約75%が集中している。このある国を次から1つ選び、記号で答えなさい。

- ア ロシア連邦
イ アメリカ合衆国
ウ 大韓民国(韓国)
エ 朝鮮民主主義人民共和国(北朝鮮)

② _____

□(3) (う)にあてはまる最も適当な語句を答えなさい。

(3) _____

4 <日本の地域区分・都道府県> 右の略地図を見て、次の問いに答えなさい。

□(1) 北緯40度の緯線が通っている県の正しい組み合わせを次から1つ選び、記号で答えなさい。

- ア 山形県と宮城県
イ 秋田県と岩手県
ウ 新潟県と福島県
エ 富山県と長野県

□(2) Aで示した地域について、次の問いに答えなさい。

□① この地域に含まれる県のうち、県名と県庁所在地名が異なる県の、県庁所在地名を答えなさい。

□② この地域はかつての「道」の地域区分をもとに何と呼ばれることがあるか。次から1つ選び、記号で答えなさい。

- ア 山陰地方 イ 東海地方
ウ 北陸地方 エ 山陽地方

□(3) Bで示した都道府県は、かつて2つの国に分かれていた。この都道府県の旧国名の正しい組み合わせを次から1つ選び、記号で答えなさい。

- ア 尾張・三河 イ 薩摩・大隅
ウ 加賀・能登 エ 飛騨・美濃

(1) _____

(2) _____

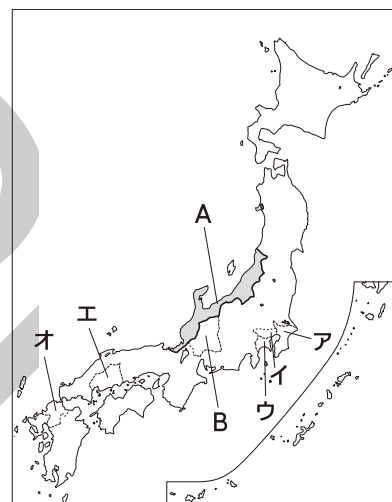
① _____

□(4) 地図中にア～オで示した都道府県のうち、政令指定都市が2都市ある都道府県が1つある。この都道府県はどこか。1つ選び、記号で答えなさい。

② _____

(3) _____

(4) _____



5 <世界の人々の生活と環境> 右の略地図を見て、次の問いに答えなさい。

□(1) 環太平洋造山帯に含まれる山脈を次から1つ選び、記号で答えなさい。

- ア ロッキー山脈
- イ アパラチア山脈
- ウ ヒマラヤ山脈
- エ ウラル山脈

□(2) Aで示した河川の流域は、おもにどの気候帯に属しているか。次から1つ選び、記号で答えなさい。

- ア 冷帯
- イ 温帯
- ウ 乾燥帯
- エ 熱帯

□(3) Bで示した国などで広く見られる針葉樹林帯を一般に何というか、答えなさい。

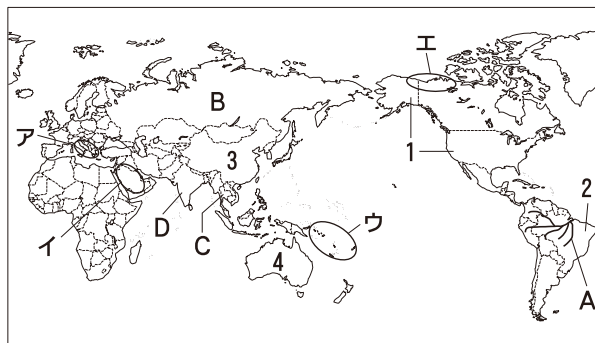
□(4) 木や竹などでつくられ、屋根はヤシの葉でおおわれた住居でくらしている地域を地図中のア～エから1つ選び、記号で答えなさい。

□(5) 地図中に1～4で示した国々を、人口の多い順に左から並べるとどうなるか、答えなさい。

□(6) 世界の三大宗教のうち、Cで示した国で最も多く信仰されている宗教は何か、答えなさい。

□(7) Dで示した国で最も多く信仰されている宗教について述べた文として最も適当なものを次から1つ選び、記号で答えなさい。

- ア 牛を食べない。
- イ 教典は、「コーラン」である。
- ウ 釈迦が開いた。
- エ メッカに向かって毎日礼拝を行う。



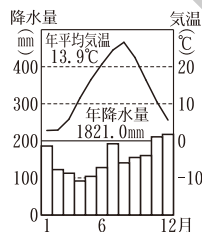
- (1) _____
- (2) _____
- (3) _____
- (4) _____
- (5) _____
- (6) _____
- (7) _____

6 <日本の自然と人口> 右の略地図を見て、日本の自然と人口に関する次の問いに答えなさい。

□(1) Aで示した山地について、次の問いに答えなさい。

- ① この山地の名を答えなさい。
- ② この山地の山中などで見られる、都市部への人口の流出が激しく通常の社会生活の維持が困難になる現象を何というか、答えなさい。

□(2) 右のグラフは、地図中のア～エのうち、どの都市の気候の特色を表しているか。最も適当なものを1つ選び、記号で答えなさい。



□(3) 日本やアジアの気候に影響を与えている、夏と冬で吹く向きが逆になる風を何というか、答えなさい。

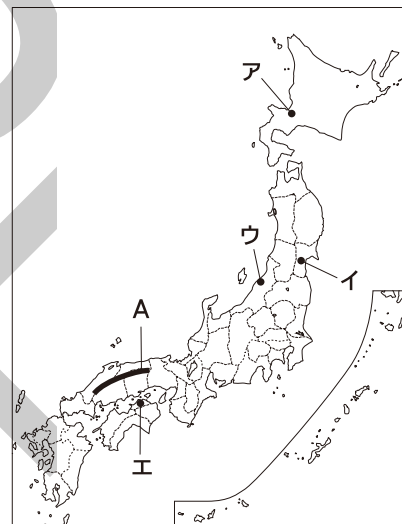
(2017年版「理科年表」より)

□(4) 地震によって引き起こされる災害として最も適当なものを次から1つ選び、記号で答えなさい。

- ア 高潮
- イ 津波
- ウ 干ばつ
- エ 火砕流

□(5) 日本で最も長い河川の名を次から1つ選び、記号で答えなさい。

- ア 利根川
- イ 石狩川
- ウ 長良川
- エ 信濃川



- (1) _____
- ① _____
- ② _____
- (2) _____
- (3) _____
- (4) _____
- (5) _____