

7 座標平面上の図形

1

(1)		1点
1 (2)		2点
(3)		2点

50点満点

7 座標平面上の図形

2

2	(1)		3点
	(2)	㉗	3点
		㉘	3点

90点満点

7 座標平面上の図形

4

4 (1)

(2)

(3)





答 A の y 座標 _____

答 _____

答 _____

7 座標平面上の図形

5

5	(1)					5点
	(2)					5点
	(3)					5点

100点満点

7 座標平面上の図形

6

6	(1)		4点
	(2)		4点

100点満点

7 座標平面上の図形

7

7	(1)	
	(2)	① $PQ : QR =$
		②

配点非公表

50点満点

7 座標平面上の図形

9

9	(1) $a =$	(2)
	(3) 個	(4)

配点非公表

満点非公表

7 座標平面上の図形

10

10	(1)	$a =$	(2)	$\leq y \leq$
	(3)	$y =$		
	(4) ①	(cm^2)	②	E(,)

(1) 1点, (2)~(4)②各2点

50点満点

7 座標平面上の図形

11

11 (1)

(1)3点, (2)4点

(2) $\triangle ABC : \triangle ADE =$:

100点満点

7 座標平面上の図形

12

12	(1)	$y =$	2点
	(2)	D (,)	DE = 各1点

40点満点

7 座標平面上の図形

13

13	(1)	$a =$	3点
	(2)	$BP =$	4点
	(3)		4点
	(4)	$BH =$	5点

100点満点