

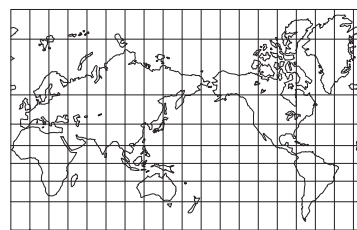
## 1 世界の姿

- (1) **陸地と海洋**…地球上の陸地：海洋の面積比は3：7で、海洋のほうが広い。陸地は六大陸(ユーラシア大陸、アフリカ大陸、北アメリカ大陸、南アメリカ大陸、南極大陸、オーストラリア大陸)とその他の島々からなり、海洋は三大洋(太平洋、大西洋、インド洋)とその他の海からなる。
- (2) **緯度・経度**…地球上の位置は、**緯度**と**経度**を用いて正確に表すことができる。緯度は、赤道を0度として南北に90度まであり、同じ緯度を結んだ線を**緯線**という。経度は、イギリスのロンドンを通る**本初子午線**を0度として東西に180度まであり、同じ経度を結んだ線を**経線**という。

## (3) 地球儀と世界地図

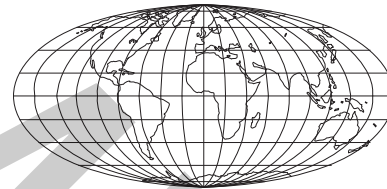
- ① **地球儀**は、地球を縮小した模型で、大陸の形や位置関係、面積、方位、距離などをほぼ正確に表すことができる。
- ② 平面の地図は、球体の地球のすべてを一度に正しく表すことはできない。このため、目的に応じてさまざまな図法の世界地図がつけられている。

## ■さまざまな世界地図



◀緯線と経線が直角に交わり、角度が正しく表される地図。海図など。

▼面積が正しく表される地図。分布図など。



▲図の中心からの方位や距離が正しく表される地図。

- (4) **世界の国々**…現在、世界には、およそ195か国の独立国がある。

- ① **区分**…アジア州、ヨーロッパ州、アフリカ州、北アメリカ州、南アメリカ州、オセアニア州の6つの州に区分されることが多い。アジア州はさらに、東アジア、東南アジア、南アジア、西アジア、中央アジアなどの地域に区分される。

- ② **面積**…世界で最も面積が大きい国はロシア連邦で、日本の面積の約45倍ある。世界で最も面積が小さい国はバチカン市国で、イタリアの首都ローマ市内に位置している。

- ③ **人口**…中華人民共和国(中国)、インド、アメリカ合衆国の順に多い。州別ではアジア州が最も多く、アフリカ州がこれに次いで多い。

- ④ **国境**…山脈や河川など自然の地形を利用した国境線や、緯線・経線などをもとにした直線的な国境線がある。アフリカ州には、植民地支配を受けた際の境界線のなごりである直線的な国境線が多く見られる。

- ⑤ **島国(海洋国)と内陸国**…**島国(海洋国)**は、国土の周囲が海に囲まれ、国境のすべてが海上にある国。**内陸国**は、まったく海に面しておらず、国境のすべてが陸上にある国。

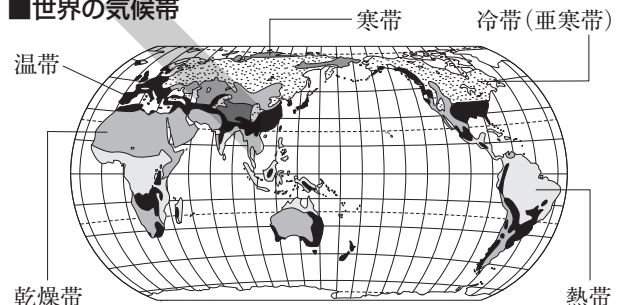
- (5) **世界の気候と人々の生活**…世界の気候は、大きく5つの気候帯に分けられ、この区分とは別に、標高が高い地域に分布する高山気候がある。

- ① **熱帯**…年間を通じて気温が高く、降水量が多い。**熱帯林(熱帯雨林)**が広がる**熱帯雨林気候**と、雨季と乾季があり、**サバナ**と呼ばれる草原が広がる**サバナ気候**に分けられる。マングローブ、さんご礁が見られる。タロイもなどの食事。暑さや湿気を防ぐために高床の住居を利用。

- ② **乾燥帯**…年間を通じて降水量が少ない。**砂漠**が広がり、植物はほとんど育たない**砂漠気候**と、わずかに降水があり、草原が広がる**ステップ気候**に分けられる。らくだや羊などの家畜を連れ、草や水を求めて移動する**遊牧**が行われてきた。乾燥した地域の中でも水が得られる**オアシス**周辺では、なつめやしなどを栽培。

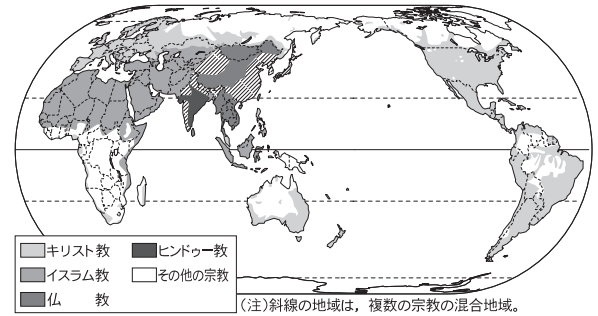
- ③ **温帯**…温暖で、四季の変化がはっきりしている。年間を通じて気温や降水量の変化が小さい**西岸海洋性気候**、夏は乾燥し冬に雨が降る**地中海性気候**、比較的降水量が多い**温暖湿潤気候**(日本の大部分)に分けられる。

## ■世界の気候帯



- ④ **冷帯(亜寒帯)**…夏は気温が上がるが、冬は寒さが厳しい。針葉樹林の**タイガ**が広がる。一年中凍ったままの**永久凍土**が見られる。
- ⑤ **寒帯**…年間を通じて気温が低い。一年中氷と雪におおわれ、植物は育たない**氷雪気候**と、短い夏にわずかにこけ類が生える**ツンドラ気候**に分けられる。北アメリカ大陸の北極海沿岸では、**イヌイット**が生活。
- ⑥ **高山気候**…年間を通じて比較的気温が低い。**アンデス山脈**の高地では、標高差を利用して、ジャガイもの栽培や、**リャマ**や**アルパカ**の飼育などが行われてきた。
- (6) **世界の宗教**…世界の各地で広く信仰されている**仏教**、**キリスト教**、**イスラム教**を三大宗教という。ほかに、特定の地域や民族に信仰されている**ヒンドゥー教**やユダヤ教などの宗教がある。
- ① **仏教**…シャカが開いた宗教で、教典は**経**。タイなどでは**托鉢**を行う僧が見られる。
- ② **キリスト教**…イエスが開いた宗教で、教典は**聖書**。多くの信者が日曜日に教会で礼拝を行う。クリスマスやイースターなどの行事がある。
- ③ **イスラム教**…ムハンマドが開いた宗教で、教典は**コーラン**。信者が集まる礼拝堂を**モスク**という。1日に5回、聖地**メッカ**の方角に向かっていのりをささげる。酒を飲まない、豚肉を食べないなど、教えにもとづいたさまざまな生活のきまりがある。
- ④ **ヒンドゥー教**…おもにインドで信仰されている。牛を神聖な動物とし、信者はその肉を食べない。

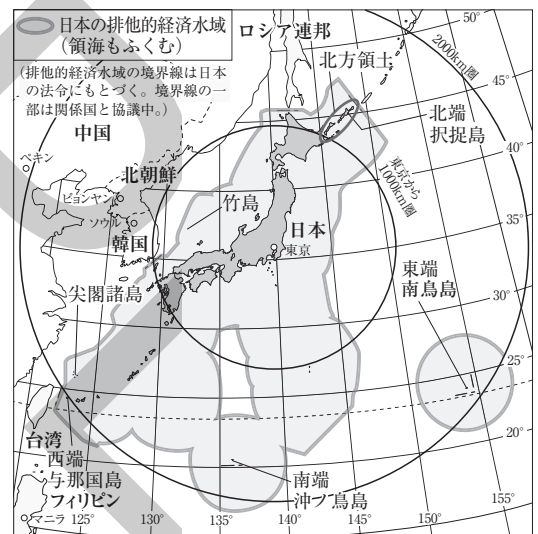
■世界の宗教の分布



## 2 日本の姿

- (1) **日本の位置**…ユーラシア大陸の東に位置。緯度・経度では、およそ北緯20度～46度、東経122度～154度の範囲にある。
- (2) **時差**…経度差15度で1時間の**時差**が生じる。日本の**標準時子午線**は、兵庫県明石市などを通る**東経135度**の経線。180度の経線にほぼ沿って、1日の始まりと終わりを示す**日付変更線**が引かれている。
- (3) **領域**…国の主権が及ぶ範囲を**領域**といい、**領土・領海・領空**からなる。日本の領海は沿岸から**12海里**まで。領海の外側の沿岸から**200海里**までは**排他的経済水域**とされ、水産資源や海底の鉱産資源を管理する権利が沿岸国に認められている。
- (4) **国土**…本州・北海道・九州・四国の4島と多くの島々からなる。国土面積は約**38万km<sup>2</sup>**。国土の端から端までの距離は、最も長いところで約**3000km**におよぶ。
- (5) **領土問題**

■日本の領域と排他的経済水域



- ① **北方領土**(北海道)…**択捉島**、**国後島**、**色丹島**、**歯舞群島**からなる。日本固有の領土であるが、現在、ロシア連邦が占拠している。
- ② **竹島**(島根県)…日本固有の領土であるが、現在、大韓民国(韓国)が占拠している。
- ③ **尖閣諸島**(沖縄県)…日本固有の領土であるが、中華人民共和国(中国)などが領有権を主張している。
- (6) **都道府県と地方区分**…47の都道府県(1都1道2府43県)がある。北海道、東北、関東、中部、近畿、中国・四国、九州の7地方区分が多く用いられる。中部地方は北陸、中央高地、東海の3地域に、中国・四国地方は山陰、瀬戸内、南四国の3地域にさらに区分。**フォッサマグナ**を境に東日本と西日本に分ける2地方区分などもある。

## 確認問題

### 1 <世界の姿> 次の問いに答えなさい。

- (1) 陸地と海洋について、次の問いに答えなさい。
- ① 地球全体の面積を10としたとき、陸地：海洋の面積比を、整数を用いて答えなさい。 (1) ① \_\_\_\_\_
- ② 世界の六大陸のうち、アジアとヨーロッパにまたがる最も面積が大きい大陸を何というか。 (2) ② \_\_\_\_\_
- ③ 世界の六大陸のうち、どの国にも属していない大陸を何というか。 (3) ③ \_\_\_\_\_
- ④ 世界の三大洋のうち、最も面積が大きい大洋を何というか。 (4) ④ \_\_\_\_\_
- ⑤ 世界の三大洋のうち、最も面積が小さい大洋を何というか。 (5) ⑤ \_\_\_\_\_
- (2) 緯度・経度について、次の問いに答えなさい。 (2)
- ① 0度の緯線を特に何というか。 (1) ① \_\_\_\_\_
- ② 緯度は南北にそれぞれ何度まであるか。 (2) ② \_\_\_\_\_
- ③ 0度の経線を特に何というか。 (3) ③ \_\_\_\_\_
- ④ 0度の経線が通っているイギリスの首都を何というか。 (4) ④ \_\_\_\_\_
- ⑤ 経度は東西にそれぞれ何度まであるか。 (5) ⑤ \_\_\_\_\_
- (3) 地球儀と世界地図について、次の問いに答えなさい。
- ① 地球上の面積、距離、方位などをほぼ正確に表すことができる、地球を縮小した模型を何というか。 (3) ① \_\_\_\_\_
- ② 平面の世界地図が、地球上の面積、方位、距離などを一度に正しく表すことができないのは、地球の形が( )体であるからである。( )にあてはまる語句を答えなさい。 (2) ② \_\_\_\_\_
- (4) 世界の国々について、次の問いに答えなさい。
- ① 世界の6つの州のうち、カナダやアメリカ合衆国などが属する州を何というか。 (4) ① \_\_\_\_\_
- ② 世界の6つの州のうち、オーストラリアなどが属する州を何というか。 (2) ② \_\_\_\_\_
- ③ アジア州をさらに区分したとき、マレーシアやインドネシアなどがふくまれる地域を何というか。 (3) ③ \_\_\_\_\_
- ④ 面積が日本のおよそ45倍となっている、世界で最も面積が大きい国はどこか。 (4) ④ \_\_\_\_\_
- ⑤ イタリアの首都ローマ市内に位置している、世界で最も面積が小さい国はどこか。 (5) ⑤ \_\_\_\_\_
- ⑥ 世界で最も人口が多い国はどこか。 (6) ⑥ \_\_\_\_\_
- ⑦ 州別で見たとき、世界で最も人口が多い州はどこか。 (7) ⑦ \_\_\_\_\_
- ⑧ アフリカ州には、ヨーロッパ諸国の( )とされた歴史から、直線的な国境線が多い。( )にあてはまる語句を答えなさい。 (8) ⑧ \_\_\_\_\_
- ⑨ 日本やフィリピンなどのように、周囲が海に囲まれている国を何というか。 (9) ⑨ \_\_\_\_\_
- ⑩ モンゴルやスイスなどのように、まったく海に面していない国を何というか。 (10) ⑩ \_\_\_\_\_

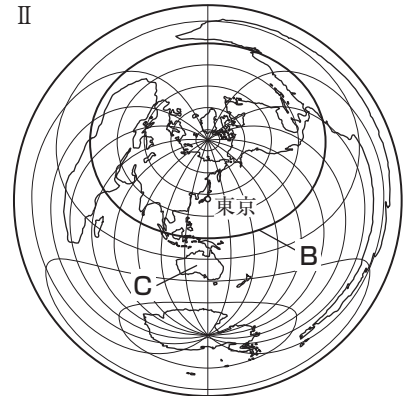
- (5) 世界の気候と人々の生活について、次の問いに答えなさい。
- ① 熱帯のうち、年間を通じて高温で雨が降り多い気候の地域に見られる密林を何というか。 (5)  
① \_\_\_\_\_
- ② 熱帯のうち、雨季と乾季がある気候の地域に見られる、低木がまばらに生える草原を何というか。 (2)  
② \_\_\_\_\_
- ③ 乾燥した地域の中でも水が得られる場所を何というか。 (3)  
③ \_\_\_\_\_
- ④ 草や水を求めて家畜とともに移動する牧畜を何というか。 (4)  
④ \_\_\_\_\_
- ⑤ 温帯の3つの気候のうち、年間を通じて気温や降水量の変化が小さい気候を何というか。 (5)  
⑤ \_\_\_\_\_
- ⑥ 温帯の3つの気候のうち、日本の大部分が属する、比較的降水量が多い気候を何というか。 (6)  
⑥ \_\_\_\_\_
- ⑦ 冷帯(亜寒帯)の地域に見られる針葉樹の森林を何というか。 (7)  
⑦ \_\_\_\_\_
- ⑧ 氷雪気候とツンドラ気候に分けられる気候帯を何というか。 (8)  
⑧ \_\_\_\_\_
- ⑨ アンデス山脈の高地で、アルパカとともに飼育され、おもに荷物の運搬に利用されている家畜は何か。 (9)  
⑨ \_\_\_\_\_
- (6) 世界の宗教について、次の問いに答えなさい。
- ① 世界の三大宗教のうち、タイなどで特にさかんに信仰されている宗教を何というか。 (6)  
① \_\_\_\_\_
- ② キリスト教の教典を何というか。 (2)  
② \_\_\_\_\_
- ③ サウジアラビアにあり、信者がその方角に向かっていのりをささげるイスラム教の聖地を何というか。 (3)  
③ \_\_\_\_\_
- ④ インドで最も多くの人々が信仰している宗教を何というか。 (4)  
④ \_\_\_\_\_

**2** <日本の姿> 次の問いに答えなさい。

- (1) 日本は、ユーラシア大陸の( )に位置しているといえる。(1)  
( )にあてはまる方位を四方位で答えなさい。 (1)  
① \_\_\_\_\_
- (2) 時差について、次の問いに答えなさい。 (2)
- ① 時差は、経度の差が何度あるごとに1時間生じるか。 (1)  
① \_\_\_\_\_
- ② 日本の標準時子午線は東経何度の経線か。 (2)  
② \_\_\_\_\_
- (3) 領域について、次の問いに答えなさい。 (3)
- ① 日本の領海の範囲は沿岸から何海里までか。 (1)  
① \_\_\_\_\_
- ② 沿岸国に水産資源や海底の鉱産資源などの権利が認められる、領海の外側の、沿岸から200海里までの水域を何というか。 (2)  
② \_\_\_\_\_
- (4) 日本の国土を形成する4つの大きな島のうち、最も面積が大きい島を何というか。 (4)  
④ \_\_\_\_\_
- (5) 領土問題について、次の問いに答えなさい。
- ① 択捉島や国後島などからなる、ロシア連邦が占拠している島々をまとめて何というか。 (5)  
① \_\_\_\_\_
- ② 竹島を占拠している国はどこか。 (2)  
② \_\_\_\_\_
- (6) 都道府県と地方区分について、次の問いに答えなさい。 (6)
- ① 日本の都道府県のうち、県の数はいくつか。 (1)  
① \_\_\_\_\_
- ② 日本の地形を東西に大きく分ける大地溝帯を何というか。 (2)  
② \_\_\_\_\_

# 練成問題

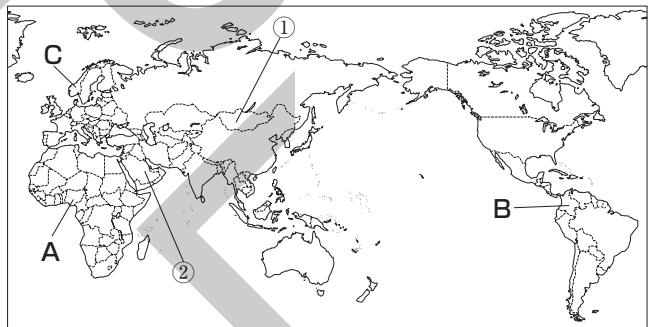
1 <世界の姿> 次のⅠ・Ⅱの略地図を見て、あとの問いに答えなさい。



- (1) 地図Ⅰ中にAで示した大洋を何というか、答えなさい。
- (2) 地図Ⅰ中の東京のおよその位置を、緯度と経度を用いて表すと、  
 ① 36度、 ② 140度と表すことができる。①、②にあてはまる語句を答えなさい。
- (3) 日本から見て、地球のほぼ反対側はどこか。地図Ⅰ中の1～4から1つ選び、番号で答えなさい。
- (4) 地図Ⅱは、東京を中心として描かれている。この図法の特徴を簡単に説明しなさい。
- (5) 地図Ⅱ中のBが示しているものは何か。次から1つ選び、記号で答えなさい。  
**ア** 赤道 **イ** 北回帰線 **ウ** 本初子午線 **エ** 南回帰線
- (6) 地図Ⅱ中にCで示した大陸の名を答えなさい。

- (1) \_\_\_\_\_
- (2) \_\_\_\_\_
- ① \_\_\_\_\_
- ② \_\_\_\_\_
- (3) \_\_\_\_\_
- (4) \_\_\_\_\_
- (5) \_\_\_\_\_
- (6) \_\_\_\_\_

2 <世界の国々> 右の略地図を見て、次の問いに答えなさい。

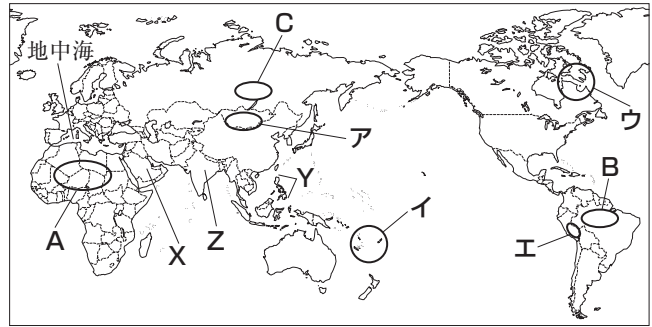


- (1) 現在、世界には独立国が約何か国あるか。次から1つ選び、記号で答えなさい。  
**ア** 135か国 **イ** 155か国  
**ウ** 175か国 **エ** 195か国
- (2) 世界の6つの州のうち、地図中にA～Cで示した国がふくまれる州の名をそれぞれ答えなさい。
- (3) アジア州をさらにいくつかの地域に区分したとき、地図中に①、②で示した国がふくまれる地域を何というか、それぞれ答えなさい。
- (4) 首都の市内に面積が世界最小のパチカン市国がある国はどこか、国名を答えなさい。
- (5) 次のア～ウの国を人口が多い順に並べ、記号で答えなさい。  
**ア** インド **イ** 中華人民共和国(中国) **ウ** アメリカ合衆国
- (6) 日本と同じく、島国(海洋国)である国を次から1つ選び、記号で答えなさい。  
**ア** スペイン **イ** キューバ **ウ** チリ **エ** ベトナム

- (1) \_\_\_\_\_
- (2) A \_\_\_\_\_  
 B \_\_\_\_\_  
 C \_\_\_\_\_
- (3) ① \_\_\_\_\_  
 ② \_\_\_\_\_
- (4) \_\_\_\_\_
- (5) \_\_\_\_\_
- (6) \_\_\_\_\_

3 <世界の気候と人々の生活> 右の略地図を見て、次の問いに答えなさい。

- (1) 世界の5つの気候帯のうち、地図中にA, Bで示した地域に分布する気候帯を何というか、それぞれ答えなさい。
- (2) 地図中にCで示した地域に見られる、年間を通じて凍ったままの土を何というか、答えなさい。
- (3) 地図中の地中海周辺に分布する地中海性気候の特色について述べた文として最も適当なものを次から1つ選び、記号で答えなさい。



- ア 夏は気温が上がるが、冬は寒さが厳しい。
- イ 温暖で雨が多く、気温と降水量の季節による変化が大きい。
- ウ 温暖で、夏は乾燥し、冬は比較的雨が多い。
- エ 温暖で、気温と降水量の季節による変化が小さい。

- (4) リャマやアルパカの飼育が行われてきた地域として最も適当なものを地図中のア～エから1つ選び、記号で答えなさい。
- (5) 世界の三大宗教のうち、地図中のX, Yの国で最も多くの人が信仰している宗教は何か、それぞれ答えなさい。
- (6) 地図中のZの国で最も多くの人が信仰している宗教において、神聖な動物とされ、信者がその肉を食べない動物は何か、答えなさい。

- (1) A \_\_\_\_\_
- B \_\_\_\_\_
- (2) \_\_\_\_\_
- (3) \_\_\_\_\_
- (4) \_\_\_\_\_
- (5) X \_\_\_\_\_
- Y \_\_\_\_\_
- (6) \_\_\_\_\_

4 <日本の姿> 次の文章を読んで、あとの問いに答えなさい。

国の領域は、領土、領海、(あ)からなる。島国であるい日本の領土は、うさまざまな島からなっており、総面積は約(え)km<sup>2</sup>である。

日本には現在、47の都道府県があり、これをもとに、お近畿地方や関東地方など7地方に区分されることが多い。また、7地方をかさらにいくつかの地域に区分する場合もある。

- (1) (あ)にあてはまる語句を答えなさい。
- (2) 下線いについて、次の問いに答えなさい。
  - ① 大韓民国(韓国)が占拠している島根県に属する島を何というか、答えなさい。
  - ② 北方領土を占拠している国はどこか、答えなさい。
- (3) 下線うについて、次の問いに答えなさい。
  - ① 日本の東端の島の名を答えなさい。
  - ② 日本の南端の島では、政府による護岸工事が行われた。その目的を簡単に説明しなさい。
- (4) (え)にあてはまる最も適当な数字を次から1つ選び、記号で答えなさい。
 

ア 1.8万    イ 3.8万    ウ 18万    エ 38万
- (5) 下線おには、日本の標準時子午線が通っている。これに関して、日本が1月1日午前6時であるとき、0度の経線を標準時子午線とする都市の現地の日時は何月何日何時か、答えなさい。
- (6) 下線かについて、中部地方をさらに3つに区分したとき、太平洋側の地域を何というか、答えなさい。

- (1) \_\_\_\_\_
- (2) \_\_\_\_\_
- ① \_\_\_\_\_
- ② \_\_\_\_\_
- (3) \_\_\_\_\_
- ① \_\_\_\_\_
- ② \_\_\_\_\_
- (4) \_\_\_\_\_
- (5) \_\_\_\_\_
- (6) \_\_\_\_\_