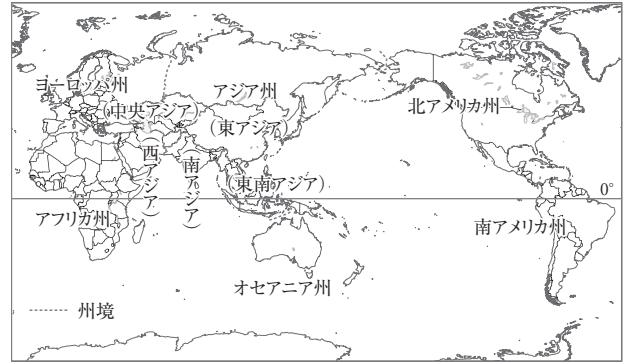


## 1 世界の姿

- (1) **大陸と海洋**…地表の海と陸の面積比は、およそ7：3。南半球よりも北半球のほうが陸地が多い。
- ① 三大洋…太平洋, 大西洋, インド洋。
  - ② 六大陸…ユーラシア大陸, 北アメリカ大陸, 南アメリカ大陸, アフリカ大陸, オーストラリア大陸, 南極大陸。
- (2) **世界の地域区分**…アジア州[さらに、東アジア, 東南アジア, 南アジア, 西アジア, 中央アジアなどの地域に区分], ヨーロッパ州, アフリカ州, 北アメリカ州, 南アメリカ州, オセアニア州に区分される。
- (3) **国境**…山脈や川, 緯線・経線などをもとに設けられている。アフリカ州には、ヨーロッパ諸国の植民地支配を受けた際の境界線のなごりである直線的な国境線が多く見られる。
- ① 島国(海洋国)…周囲を海に囲まれている国。日本, フィリピン, キューバ, ニュージーランドなど。
  - ② 内陸国…海に面していない国。モンゴル, ラオス, ボリビア, オーストリア, スイスなど。
- (4) **世界の国々**…現在, 世界には、およそ195か国の国がある。
- ① 面積…世界で最も面積が大きい国はロシア連邦で、日本の面積の約45倍ある。世界で最も面積が小さい国はバチカン市国で、イタリアの首都ローマ市内に位置している。
  - ② 人口…中華人民共和国(中国), インド, アメリカ合衆国の順に多い。州別ではアジア州が最も多い。
  - ③ 国名の由来…エクアドル[国土を通る赤道から], コロンビア[探検家コロンブスから]など。
- (5) **地球上の位置**…地球上の位置は緯度と経度で表す。
- ① 緯度…赤道と平行な線を緯線という。緯度は、赤道を0度として、南北に90度ずつ分けたもの。赤道より北を北緯, 南を南緯で示す。
  - ② 経度…北極点と南極点を結んだ線を経線という。経度は、イギリスの首都であるロンドンを通る経線(本初子午線)を0度として、東西に180度ずつ分けたもの。0度より東を東経, 西を西経で示す。
- (6) **対蹠点**[ある地点から見て、地球のちょうど反対側の地点]の求め方…経度は、180度から経度を引き、東経と西経を逆にする。緯度は数値は変えず、北緯と南緯を逆にする。東京の位置は、およそ東経140度, 北緯36度→東京の対蹠点は、およそ西経40度, 南緯36度[南アメリカ州のウルグアイ沖の大西洋上]。
- (7) **地球儀と世界地図**
- ① 地球儀…地球を縮小した模型。大陸の形や位置関係, 面積, 方位, 距離などをほぼ正確に表せる。
  - ② 世界地図…目的に応じてさまざまな図法の世界地図がつくられている。



▲州の区分

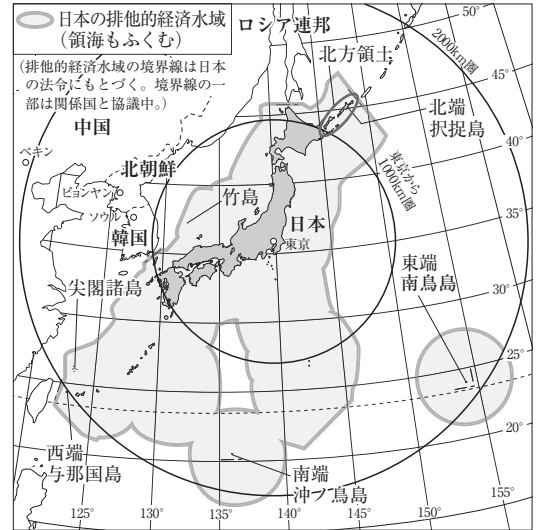


▲図の中心からの距離や方位が正しく表される地図。

## 2 日本の姿

- (1) **日本の位置**…ユーラシア大陸の東に位置し、東アジアにふくまれる。経度ではおよそ東経122度から154度の間, 緯度ではおよそ北緯20度から46度の方に位置する。
- (2) **時差**
- ① 標準時…各国・地域ごとに定められた経線にもとづく時刻。標準時の基準となる経線を標準時子午線という。日本は、兵庫県明石市を通る東経135度の経線を標準時子午線とする。
  - ② 時差の求め方…地球は24時間で1回転(360度回転)している。360度÷24時間=15度より、経度15度につき1時間の時差が生じる。2地点間の時差は、経度差÷15度で求められる。
  - ③ 日付変更線…経度180度の経線にはほぼ沿って引かれている。日付変更線を西から東へこえるときは日付を1日遅らせ、東から西へこえるときは日付を1日進める。

- (3) 日本の領域…領土, 領海[日本は海岸線から12海里], 領空[領土と領海の上空]からなる。領海を除く海岸線から200海里以内の水域は排他的経済水域とよばれ, 沿岸国に水産資源, 海底資源を利用する権利が認められる。
- (4) 日本の国土…北海道, 本州, 四国, 九州と小さな島々からなる。国土の長さは約3000km, 面積は約38万km<sup>2</sup>。
- (5) 領有をめぐる動き
- ① 北方領土[北海道]…国後島, 択捉島, 色丹島, 歯舞群島からなる。現在, ロシア連邦が占拠している。
  - ② 竹島[島根県]…現在, 大韓民国(韓国)が占拠している。
  - ③ 尖閣諸島[沖縄県]…中華人民共和国(中国)・台湾が領有権を主張している。
- (6) 都道府県と地方区分…47の都道府県[1都1道2府43県]がある。北海道地方, 東北地方, 関東地方, 中部地方, 近畿地方, 中国・四国地方, 九州地方の7地方区分が多く用いられる。

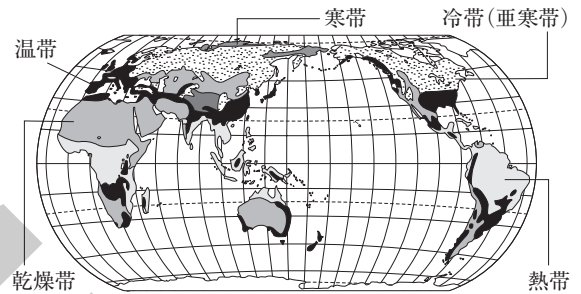


▲日本の領海と排他的経済水域

### 3 世界の人々の生活と環境

#### (1) 世界の気候と人々の生活

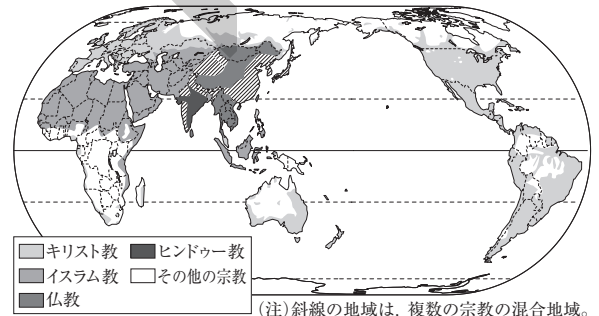
- ① 寒帯…年間を通じて気温が低い。一年中水と雪におおわれ, 植物が育たない**氷雪気候**, 短い夏にわずかにこけ類が生える**ツンドラ気候**。北アメリカ大陸の北極海沿岸では**イヌイット**が生活。夏は太陽が深くしずまず, 夜でもうす明るい**白夜**が見られる。
- ② 冷帯(亜寒帯)…夏は気温が上がるが, 冬は寒さが厳しい。ロシア連邦の東側のシベリアには, **永久凍土**や針葉樹林の**タイガ**が広がる。
- ③ 温帯…温暖で四季の変化がはっきりしている。年間を通じて気温や降水量の差が小さい**西岸海洋性気候**, 夏は乾燥し冬に雨が多い**地中海性気候**, 年間を通じて雨が多い**温暖湿潤気候**(日本の大部分)。
- ④ 乾燥帯…年間を通じて降水量が少ない。砂漠が広がり, 植物がほとんど育たない**砂漠気候**, わずかに降水があり, 草原が広がる**ステップ気候**[アフリカ大陸北部の**サハラ砂漠**の南に広がる**サヘル**など]。らくだや羊などの家畜を連れ, 草や水を求めて移動する**遊牧**が行われてきた。乾燥した地域の中でも水が得られる**オアシス**周辺では, なつめやしなどを**かんがい**によって栽培。
- ⑤ 熱帯…年間を通じて気温が高く, 降水量が多い。**熱帯林(熱帯雨林)**が広がる**熱帯雨林気候**と, 雨季と乾季があり, **サバナ**とよばれる草原が広がる**サバナ気候**に分けられる。マングローブ, **さんご礁**が見られる。タロイもなどの食事。木や竹, 草などを利用した家がつくられてきた。
- ⑥ 高山気候…標高が高い地域に分布。年間を通じて比較的気温が低い。**アンデス山脈**の高地では, 標高差を利用して, じゃがいもの栽培や, **リャマ**や**アルパカ**の飼育などが行われてきた。



▲世界の気候帯の分布

#### (2) 世界の宗教

- ① 仏教…教典は経。タイなどでは, 僧が家々をまわって食べ物などの施しを受ける修行が見られる。
- ② キリスト教…教典は**聖書**。多くの信者が日曜日に教会で礼拝を行う。クリスマスやイースターなどの行事がある。信者の数が世界で最も多い。
- ③ イスラム教…教典は**コーラン**。金曜日にモスク(礼拝堂)でいのりをささげる。信者は1日に5回, 聖地**メッカ**の方角に向かっていのりをささげる, 酒を飲まない, 豚肉を食べないなど, 教えにもとづいた生活のきまりがある。
- ④ **ヒンドゥー教**…おもにインドで信仰されている。牛を神聖な動物とし, 信者はその肉を食べない。

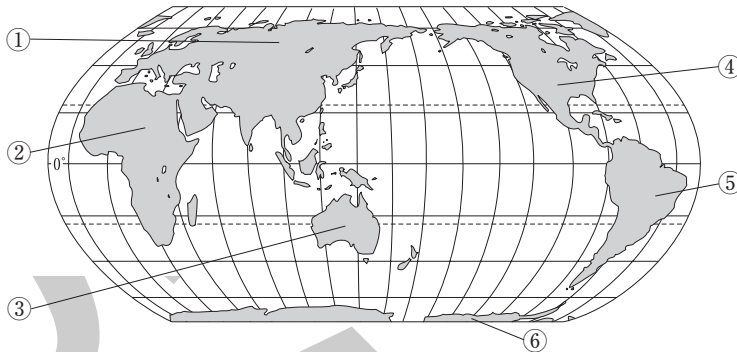


▲世界の宗教の分布

# 確認問題

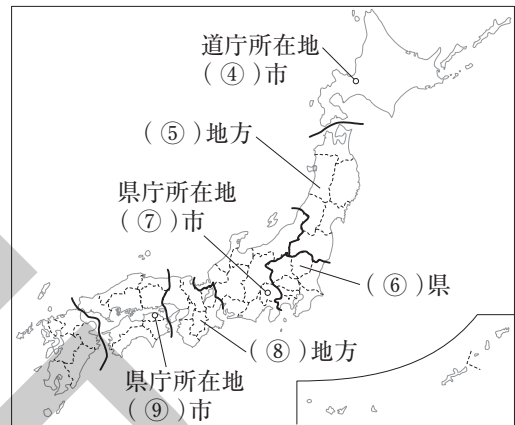
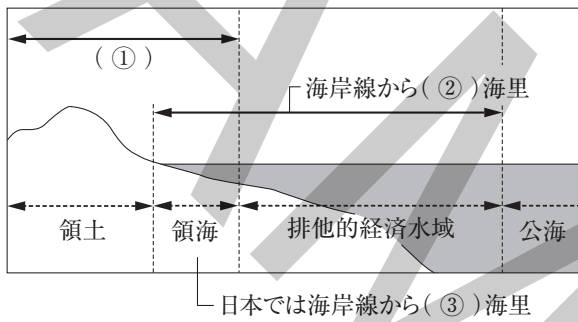
1 <重要図版の確認> 次の各問いに答えなさい。

□(1) ①～⑥にあてはまる大陸名を答えなさい。



- ① \_\_\_\_\_ 大陸
- ② \_\_\_\_\_ 大陸
- ③ \_\_\_\_\_ 大陸
- ④ \_\_\_\_\_ 大陸
- ⑤ \_\_\_\_\_ 大陸
- ⑥ \_\_\_\_\_ 大陸

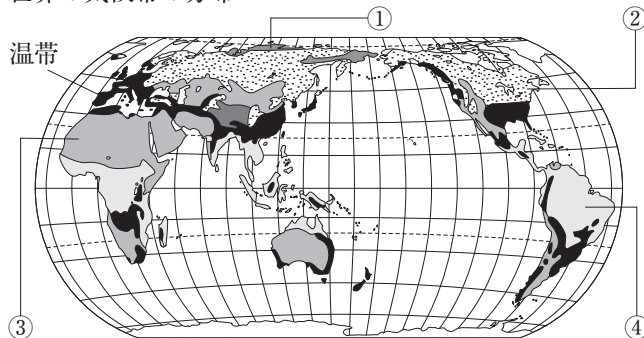
□(2) ①～⑨にあてはまる語句や数字を答えなさい。



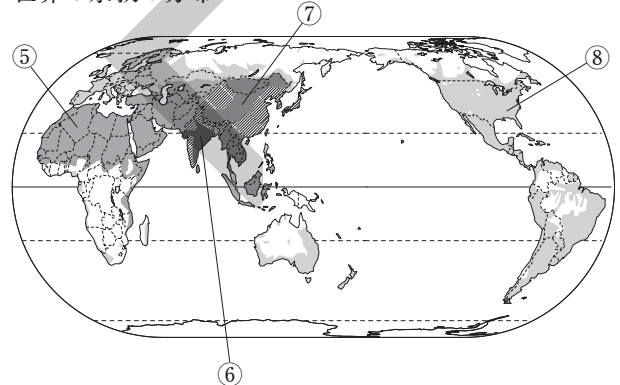
- ① \_\_\_\_\_ □④ \_\_\_\_\_ □⑦ \_\_\_\_\_
- ② \_\_\_\_\_ □⑤ \_\_\_\_\_ □⑧ \_\_\_\_\_
- ③ \_\_\_\_\_ □⑥ \_\_\_\_\_ □⑨ \_\_\_\_\_

□(3) ①～⑧にあてはまる気候帯名や宗教名を答えなさい。

世界の気候帯の分布



世界の宗教の分布



- ① \_\_\_\_\_ □⑤ \_\_\_\_\_
- ② \_\_\_\_\_ □⑥ \_\_\_\_\_
- ③ \_\_\_\_\_ □⑦ \_\_\_\_\_
- ④ \_\_\_\_\_ □⑧ \_\_\_\_\_

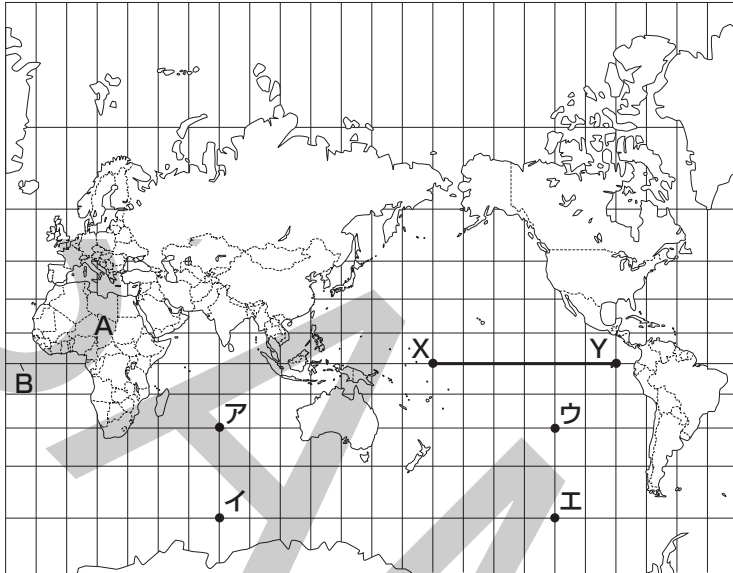
2 <重要語句の確認> 次の各問いに答えなさい。

- (1) 六大陸のうち、面積が最も小さい大陸であり、全体が1つの国と  
なっている大陸を何というか。 (1) \_\_\_\_\_
- (2) 世界を6つの州に分けると、カナダは何州にふくまれるか。 (2) \_\_\_\_\_
- (3) アジア州は、さらにいくつかの地域に分けることができる。日本は、  
そのうちの何とよばれる地域にふくまれるか。 (3) \_\_\_\_\_
- (4) モンゴルのように、すべての国境が陸上にあって、海に面していな  
い国を何というか。 (4) \_\_\_\_\_
- (5) 面積が世界で最も大きい国を何というか。 (5) \_\_\_\_\_
- (6) 「赤道」という意味の国名をもつ、南アメリカ州にある国を何とい  
うか。 (6) \_\_\_\_\_
- (7) 経度0度の経線を一般に何というか。 (7) \_\_\_\_\_
- (8) 日本を地球の反対側に移動させたとすると、その位置は、世界の大陸  
のうちのどの大陸に最も近い。 (8) \_\_\_\_\_
- (9) 大陸の形や位置関係、面積、方位、距離などをほぼ正確に表せる、  
地球を縮小した模型を何というか。 (9) \_\_\_\_\_
- (10) 日本の標準時子午線として定められている経線は、兵庫県明石市を  
通る東経何度の経線か。 (10) \_\_\_\_\_
- (11) 水産資源や鉱産資源を沿岸国が管理できる、領海の外側で、海岸線  
から200海里以内の水域を何というか。 (11) \_\_\_\_\_
- (12) およそ東経154度に位置している、日本の東端<sup>とうたん</sup>の島を何というか。 (12) \_\_\_\_\_
- (13) 日本固有の領土であるが、現在、ロシア連邦が占拠している、択捉  
島などの島々を何というか。 (13) \_\_\_\_\_
- (14) 高緯度の地域で夏に見られる、太陽が深くしずまず夜でもうす明る  
い状態が続く現象を何というか。 (14) \_\_\_\_\_
- (15) シベリアで見られる、一年中凍<sup>こお</sup>った状態の土を何というか。 (15) \_\_\_\_\_
- (16) 温帯の3つの気候のうち、日本のように年間を通じて降水量が多い  
気候を何というか。 (16) \_\_\_\_\_
- (17) 砂漠の中でも、わき水や井戸などで水が得られる場所を何というか。 (17) \_\_\_\_\_
- (18) 熱帯の2つの気候のうち、雨季と乾季がはっきり分かれている気候  
を何というか。 (18) \_\_\_\_\_
- (19) 南アメリカ大陸の西部に連なる、標高が高い地域にも人々が暮らし  
ている山脈を何というか。 (19) \_\_\_\_\_
- (20) 西アジアや北アフリカなどで広く信仰されており、信者は酒を飲ま  
ない、豚肉を食べないなどのきまりがある宗教を何というか。 (20) \_\_\_\_\_

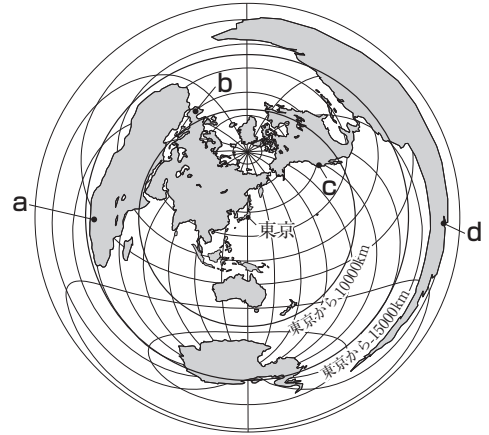
# 練成問題

1 次の地図1・地図2を見て、あとの問いに答えなさい。ただし、地図1は緯線と経線が直角に交わるようにえがかれており、緯線と経線がそれぞれ15度おきに引かれている。地図2は東京を中心にして、東京から世界各地への距離と方位が正しくえがかれている。

地図1



地図2



□(1) 地図1中にAで示した大陸について、次の問いに答えなさい。

- ① この大陸が面している2つの大洋のうち、面積が大きい方の大洋の名を答えなさい。
- ② この大陸の国境線の特徴について述べた次の文章中の( )にあてはまる内容を答えなさい。

この大陸には、直線的な国境線が多く見られる。これは、この地域が( )ときに定められた境界線が現在も国境線として多く残っているからである。

□(2) 地図1中のBは、緯度0度の緯線を示している。これについて、次の問いに答えなさい。

- ① この線が通る国として**不適当なもの**を次から1つ選び、記号で答えなさい。  
ア ブラジル    イ インドネシア    ウ エクアドル    エ メキシコ
- ② この線に沿って地球を1周したときの実際の距離は約40000kmである。この線上に示したX-Y間の実際の距離はどれくらいか。最も適当なものを次から1つ選び、記号で答えなさい。  
ア 約5000km    イ 約10000km    ウ 約15000km    エ 約20000km

□(3) 地球上の位置は、緯度と経度を使って示すことができる。南緯30度、西経120度の地点として最も適当なものを地図1中のア～エから1つ選び、記号で答えなさい。

(1) \_\_\_\_\_  
① \_\_\_\_\_

□(4) 地図2中のa～dの都市を、東京からの距離が近い順に左から並べるとどうなるか。最も適当なものを次から1つ選び、記号で答えなさい。

(2) \_\_\_\_\_  
② \_\_\_\_\_

- ア b→c→a→d    イ b→c→d→a
- ウ c→b→a→d    エ c→b→d→a

(1) \_\_\_\_\_  
② \_\_\_\_\_

□(5) 地図2中の東京から航空機で西に向かってまっすぐに進み、地球を1周して東京にもどるとき、3番目に上空を通過する大陸の名を答えなさい。

(3) \_\_\_\_\_  
(4) \_\_\_\_\_  
(5) \_\_\_\_\_

2 各文章を読んで、あとの問いに答えなさい。

1 日本は(あ)の東に位置し、兵庫県明石市などを通る東経135度の経線を標準時子午線としている。この線を基準にして、世界の各地域とのい時差を求めることができる。

2 日本は4つの大きな島と、う多くの小さな島々で成り立つ島国である。日本の領域は、これらの領土、(え)、領空からなる。

3 日本には47の都道府県があり、これらは、お7つの地方に区分されることがある。

□(1) (あ)にあてはまる、世界の六大陸の中で面積が最も大きい大陸の名を答えなさい。

□(2) 下線いについて、日本と、西経75度の経線を標準時子午線としている都市との時差として最も適当なものを次から1つ選び、記号で答えなさい。ただし、サマータイムは考えないものとする。

ア 10時間    イ 12時間    ウ 14時間    エ 16時間

□(3) 下線うについて、次の問いに答えなさい。

□① 日本の南端に位置する沖ノ島島で、政府によって護岸工事が行われた目的を説明しなさい。

□② 択捉島などがふくまれる北方領土とよばれる地域を、現在、占拠している国の名を答えなさい。

□(4) (え)にあてはまる最も適当な語句を答えなさい。

(1) \_\_\_\_\_

□(5) 下線おについて、九州地方に関して述べた文として**不適当なもの**を次から1つ選び、記号で答えなさい。

(2) \_\_\_\_\_

ア この地方には8つの県がある。

(3) \_\_\_\_\_

イ この地方にふくまれるすべての県が海に面している。

① \_\_\_\_\_

ウ この地方には、県名に「崎」という文字をふくむ県が2県ある。

② \_\_\_\_\_

エ この地方にふくまれる県の県名と県庁所在地名はすべて同じである。

(4) \_\_\_\_\_

(5) \_\_\_\_\_

3 右の略地図を見て、次の問いに答えなさい。

□(1) 地図中にAで示した地域について、次の問いに答えなさい。

□① 世界の5つの気候帯のうち、この地域に分布する気候帯を何というか。答えなさい。

□② この地域で見られる針葉樹林を何というか。答えなさい。

□(2) 地図中にBで示した山脈の標高が高い地域で伝統的に飼育されている家畜の組み合わせとして最も適当なものを次から1つ選び、記号で答えなさい。

ア リャマとアルパカ    イ リャマと水牛    ウ アルパカとカリブー    エ カリブーと水牛

□(3) 地図中にCで示した地域には、温帯の3つの気候のうち、夏は乾燥し、冬は比較的雨が降り多い気候が分布している。この気候を何というか。答えなさい。

□(4) 地図中にDで示した国で信者が最も多い宗教の名を答えなさい。

(1) \_\_\_\_\_

□(5) 地図中にEで示した国で信者が最も多い宗教について述べた文として最も適当なものを次から1つ選び、記号で答えなさい。

① \_\_\_\_\_

ア 牛は神の使いとされていて、信者は牛肉をほとんど食べない。

(2) \_\_\_\_\_

イ 信者は聖地に向かって1日に5回いのる。

(3) \_\_\_\_\_

ウ クリスマスやイースターなどの年中行事がある。

(4) \_\_\_\_\_

エ 「聖書」が教典とされている。

(5) \_\_\_\_\_

