

実戦トライアル

A 第1回

社 会

- 注意：1. この問題用紙は、先生の「始め」の合図があるまで開いてはいけません。
2. 解答欄は、この用紙の裏面です。答えは、すべてこの解答欄に記入下さい。
3. 先生の「やめ」の合図があったら、指示に従って解答欄のあるこの用紙だけを提出して下さい。

1	(1)	4点
		1
	(2)	4点
		2
	(3)	4点
		3
	(4)	4点
	4	
(5)	4点	
	5	
(6)	4点	
	6	
(7)	4点	
	7	
1		/28

2	(1)	4点
		8
	(2)	4点
		9
	(3)	4点
		10
	(4)	4点
		11
	(5)	4点
		12
(6)	4点	
	13	
(7)	4点	
	14	
(8)	4点	
	15	
	8点	
	16	
	4点	
(10)	17	
2		/44

クラス	番号	氏名	性別	総得点
			男 女	/ 100

3	(1)	4点
		18
	(2)	4点
		19
	(3)	4点
		20
	(4)	4点
	21	
(5)	4点	
	22	
(6)	4点	
	23	
(7)	4点	
	24	

3	/ 28
----------	------

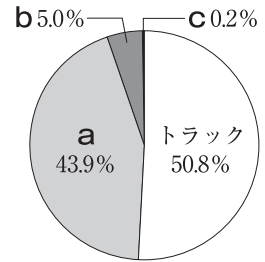
領域別得点	① 地理	② 歴史	③ 公民	④ 分野融合
		/ 28	/ 44	/ 28

1 次の文章を読んで、あとの問いに答えなさい。

私は冬休みに出雲市と境港市に行きました。東京国際空港から1時間半ほどあ航空機に乗り、島根県の出雲空港に降り立ちました。空港からはバスに乗って、出雲大社に向かいました。出雲大社に参拝した後、同じ県内にある世界遺産に指定された鉱山遺跡を見学し、この日はその遺跡のある市に宿泊しました。

翌日は列車に乗り、い鳥取県の境港市へう向かいました。移動する途中、日本最大のシジミの産地として知られるえ湖の横を通りました。この湖は、海水と淡水が混じった汽水湖でもあります。日本には、他にもお静岡県の浜名湖やか北海道のサロマ湖などの汽水湖があります。境港市に着くと、有名な漁港であるき境港へ行き、昼ご飯には新鮮な魚をさばいた刺身を食べました。

- (1) 下線あについて、右のグラフは日本における国内貨物輸送量の輸送方法の割合を示しています。グラフ中のa～cにあてはまるものの組み合わせとして最も適当なものを次から1つ選び、記号で答えなさい。



(国土交通省 交通政策白書データ集より)

- ア a = 航空 b = 海運 c = 鉄道 イ a = 鉄道 b = 航空 c = 海運
ウ a = 海運 b = 鉄道 c = 航空 エ a = 鉄道 b = 海運 c = 航空

- (2) 下線いの県で生産される伝統的工芸品として最も適当なものを次から1つ選び、記号で答えなさい。

- ア 因州和紙 イ 九谷焼 ウ 熊野筆 エ 南部鉄器

- (3) 下線うについて、おおよそどちらの方角へ向かいましたか。次から1つ選び、記号で答えなさい。

- ア 東 イ 西 ウ 南 エ 北

- (4) 下線えの湖の名を答えなさい。

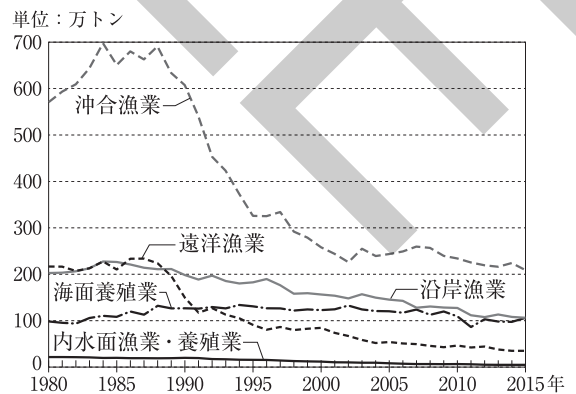
- (5) 下線おの県の工業に関する説明として最も適当なものを次から1つ選び、記号で答えなさい。

- ア 静岡市では楽器やオートバイの生産がさかんである。
イ 富士市では製紙工業がさかんである。
ウ 焼津港は、主に工業製品の輸出を行っている。
エ 静岡県沿岸部は京浜工業地帯の一部である。

- (6) 下線かの説明として不適当なものを次から1つ選び、記号で答えなさい。

- ア 札幌市は政令指定都市の1つである。
イ 北海道と本州を結ぶ海底トンネルを、青函トンネルという。
ウ 根釧台地は稲作に適さないため、酪農がさかんである。
エ 温帯に属し、梅雨である6月は年間で最も降水量が多い。

- (7) 下線きの港について、右のグラフは日本の漁業生産量の推移を示したものです。このグラフの説明として不適当なものを次から1つ選び、記号で答えなさい。



(農林水産省資料より)

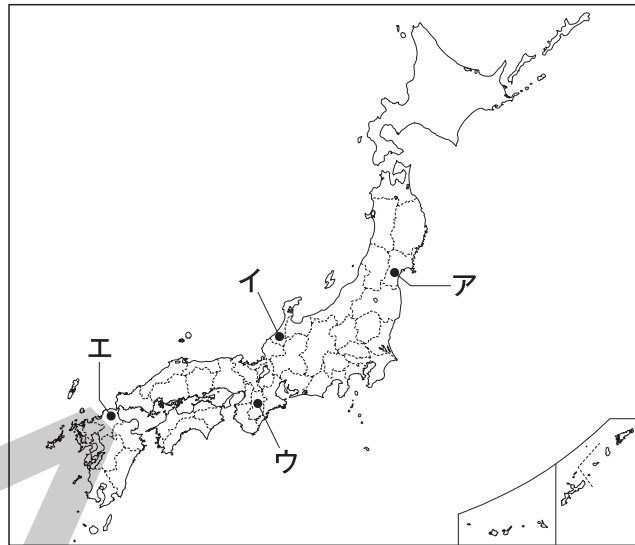
- ア 沖合漁業の生産量は、2000年からの10年間で200万トン以上減少している。
イ 海面養殖業の生産量は、2015年時点で、1980年の生産量とほぼ同じである。
ウ 2015年の遠洋漁業の生産量は、1980年代後半の4分の1以下に減少している。
エ 1990年の漁業生産量の合計は1000万トンを超えていた。

2 次の年表を見て、あとの問いに答えなさい。

2400年以上前	大陸から朝鮮半島に移り住んだ人々により、 <u>あ</u> 稲作が伝わる。
4～5世紀	<u>い</u> 大和朝廷の統一が進む。
7世紀	聖徳太子により十七条の憲法がつくられる。 <u>う</u> 大化の改新が行われる。
8世紀	<u>え</u> 奈良に都が置かれる。
8世紀末 ～9世紀	<u>お</u> 京都に都が移される。 遣唐使が取りやめになる。
11世紀	藤原道長が政治の実権をにぎる。
12世紀	源氏と平氏の戦いがおこる。 源頼朝が <u>か</u> 征夷大將軍となる。
13世紀	<u>き</u> 元が日本に攻めてくる。
14世紀	鎌倉幕府が減じる。 <u>く</u> 足利氏が京都に幕府を開く。
15世紀	応仁の乱がおこり、戦国時代に入る。
17世紀	<u>け</u> 徳川家康が江戸に幕府を開く。
19世紀	明治政府がつくられ、江戸を東京と改める。 <u>こ</u> 大日本帝国憲法が公布される。

- (1) 下線あの時期を説明した文として不適当なものを次から1つ選び、記号で答えなさい。
 ア 弥生土器といわれる、縄文土器よりもうすくてかたい土器がつくられるようになった。
 イ 中国、朝鮮半島から鉄器や青銅器が伝わった。
 ウ 朝鮮半島の百済と呼ばれる国から仏教が伝わった。
- (2) 下線いの時期には、日本最大の古墳である大仙古墳がつくられています。大仙古墳がある現在の都道府県として最も適当なものを次から1つ選び、記号で答えなさい。
 ア 大阪府 イ 北海道 ウ 東京都 エ 愛知県
- (3) 下線うの時期には、新たな税の制度が定められました。「庸」にあたる説明として最も適当なものを次から1つ選び、記号で答えなさい。
 ア 織物や地方の特産物を納める。
 イ 唐にわたり、進んだ文化を学んで帰国する。
 ウ 稲の収穫高の3%を納める。
 エ 都で年間に10日間働くか、布などを納める。
- (4) 下線えについて、奈良に置かれた都を何といいますか。漢字3字で答えなさい。
- (5) 下線おが行われたときに天皇であった人物として最も適当なものを次から1人選び、記号で答えなさい。
 ア 聖武天皇 イ 持統天皇 ウ 推古天皇 エ 桓武天皇

- (6) 下線かについて、征夷大將軍はもともと蝦夷(朝廷にしたがわなかった東の異民族または地域)を征服するために定められた役職でした。蝦夷を示している場所として最も適当なものを次の地図中から1つ選び、記号で答えなさい。



- (7) 下線きのときに執権をつとめていた人物として最も適当なものを次から1人選び、記号で答えなさい。
ア 源義経　イ 北条時宗　ウ 北条政子　エ 竹崎季長
- (8) 下線くの時期は室町時代と呼ばれます。その中で、金閣を建てた3代将軍の姓名を漢字で答えなさい。
- (9) 下線けについて、この時代は江戸時代と呼ばれます。江戸幕府を開いた徳川家康は、当時人々に広まっていたキリスト教に対してどのような対応をとりましたか。その理由もふくめて簡単に説明しなさい。
- (10) 下線こについて、このできごとのあとにおこったできごととして**不適当なもの**を次から1つ選び、記号で答えなさい。
- ア 朝鮮半島の大韓帝国を併合し、日本の植民地とした。
イ 対立していたロシアと戦争を行い(日露戦争)、アメリカの仲介で翌年に講和条約を結んだ。
ウ 満州にいた日本軍が中国軍を攻撃したことをきっかけに、日本が満州を占領した。
エ 政府の役人をやめた板垣退助が、自由民権運動を展開した。

3 次の日本国憲法の条文を読んで、あとの問いに答えなさい。

あ第9条 ① 日本国民は、正義と秩序を基調とする国際平和を誠実に希求し、国権の発動たる(1)と、(2)による威嚇又は(2)の行使は、(3)を解決する手段としては、永久にこれを放棄する。

② 前項の目的を達するため、陸海空軍その他の(4)は、これを保持しない。国の交戦権はこれを認めない。

第11条 国民は、すべてのい基本的人権の享有を妨げられない。この憲法が国民に保障する基本的人権は、侵すことのできない永久の権利として、現在及び将来の国民に与えられる。

第41条 国会は、国権の最高機関であつて、国の唯一の(5)機関である。

第65条 行政権は、う内閣に属する。

第76条 ① すべてえ司法権は、(6)裁判所及び法律の定めるところにより設置する下級裁判所に属する。(以下略)

(1) (1)~(4)にあてはまる語句の組み合わせとして最も適当なものを次から1つ選び、記号で答えなさい。

- | | | | | |
|---|----------|--------|----------|--------|
| ア | 1 = 戦争 | 2 = 戦力 | 3 = 国際紛争 | 4 = 武力 |
| イ | 1 = 国際紛争 | 2 = 武力 | 3 = 戦争 | 4 = 戦力 |
| ウ | 1 = 戦争 | 2 = 武力 | 3 = 国際紛争 | 4 = 戦力 |
| エ | 1 = 国際紛争 | 2 = 戦力 | 3 = 戦争 | 4 = 武力 |

(2) 下線あで示されている日本国憲法の基本原則を答えなさい。

(3) 下線いについて、基本的人権ではないものを次から1つ選び、記号で答えなさい。

- | | | | |
|---|----------|---|------------|
| ア | 職業を選ぶ自由 | イ | 選挙権 |
| ウ | 教育を受ける権利 | エ | 裁判官を任命する権利 |

(4) (5)にあてはまる語句を漢字2字で答えなさい。

(5) 下線うについて、内閣の仕事ではないものを次から1つ選び、記号で答えなさい。

- | | | | |
|---|-------------------|---|-------------------|
| ア | 法律にしたがって実際に政治を行う。 | イ | 国を代表して外国との交渉にあたる。 |
| ウ | 裁判官を裁く裁判所を設置する。 | エ | 国の予算案を国会に提出する。 |

(6) (6)にあてはまる語句を漢字2字で答えなさい。

(7) 下線えについて、裁判を公正に行い、国民の基本的人権を守るために、1つの裁判につき3回まで裁判を受けられるようになっています。そのしくみを何といいますか。漢字3字で答えなさい。

(これで問題は終わりです)