

6

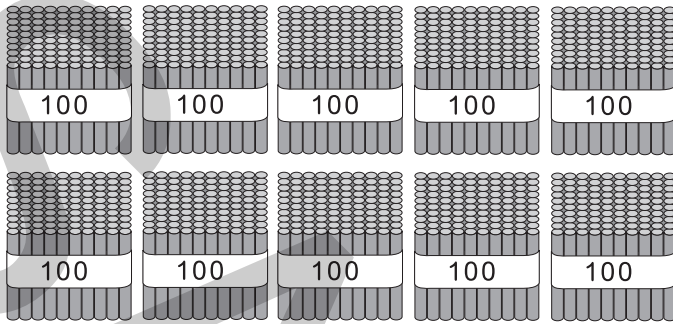
1000までの 数の あらわし方

がくしゅう日

/

ポイント① 100を あつめた 数

- 100を 2こ あつめた 数は 200, 3こ あつめた 数は 300です。
- 100を 10こ あつめた 数は 1000です。



→ 1000

1000は ^{せん}千と 読みます。

かくにんもんだい ①

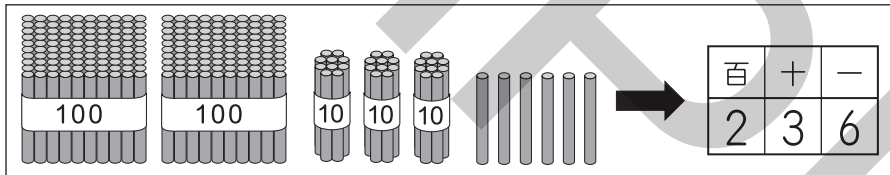
□ に あてはまる 数を 答えましょう。

□(1) 100を 7こ あつめた 数は □ です。

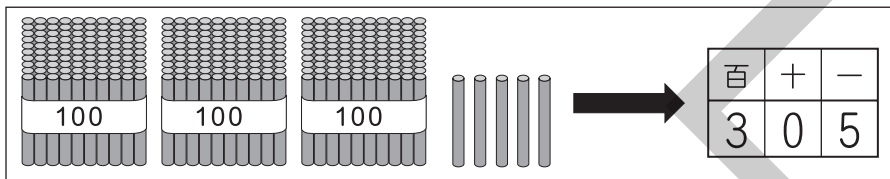
□(2) 1000より 100 小さい 数は □ です。

ポイント② 1000までの 数の あらわし方

れい



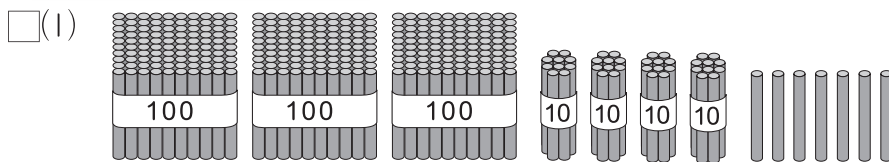
200と30と6で
にひゃくさんじゅうろく
二百三十六



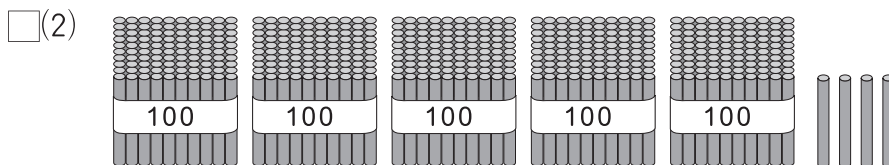
300と5で
さんびゃくご
三百五

かくにんもんだい ②

数えて 数字を 書きましょう。



[]



[]

れんせいもんだい

① つぎの もんだいに 答えましょう。

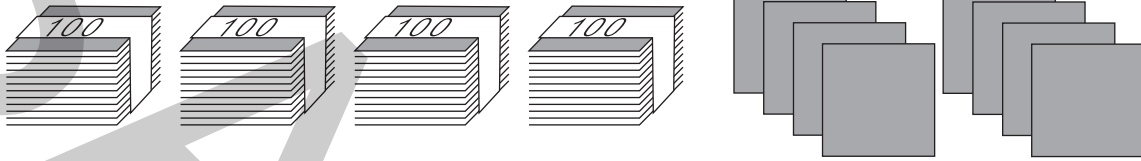
□(1) 100を 何こ あつめると、600に なりますか。

[]

□(2) 100を 2こ、10を 5こ、1を 4こ あわせた 数は いくつですか。

[]

□(3) まい数を 数えて 数字を 書きましょう。



[]

□(4) 数を 数字で あらわしましょう。

□① 八百六十二

□② 三百五十

[]

[]

② □ に あてはまる 数を 答えましょう。

□(1) $200 + 10 + 5 =$

□(2) $700 + 3 =$

③ つぎの もんだいに 答えましょう。

□(1) マラソン大会で 500人が 走りました。ひろみさんと その ともだちも 走りました。ゴールした じゅん番は、ひろみさんが 320番、たけしさんが 180番、あかねさんが 360番、まなぶさんが 240番でした。

この 4人を はやく ゴールした じゅん番に ならべましょう。

[さん → さん → さん → さん]

□(2) 青の 色紙が 300まいと 白の 色紙が 200まい あります。

青の 色紙と 白の 色紙は、あわせて 何まいですか。

[]

□(3) 900円 あります。100円を つかうと、のこりは 何円に なりますか。

[]