

7


たしざんかな・ひきざんかな

■がくしゅうび

/

- 1 おんどりと めんどりが います。えをみて、もんだいに
こたえましょう。

おんどりは 3わです。



めんどりは、おんどりより 1わ すくないです。

- (1) めんどりは なんわ いますか。

(しき)

(こたえ)

- (2) おんどりと めんどりは あわせて なんわ いますか。

(しき)

(こたえ)

- 2 くだものが あります。えをみて、もんだいに こたえましょう。

めろんは 7こです。



すいかは めろんより 2こ おおいです。

ももは すいかより 1こ おおいです。

- (1) すいかは なんこですか。

(しき)

(こたえ)

- (2) ももは なんこですか。

(しき)

(こたえ)


- (3) ももは めろんより なんこ おおいですか。

(しき)

(こたえ)

3 あひるが います。えを みて， もんだいに こたえましょう。

はじめは いけの なかに 9わ， そとに 5わ いました。



このあと， いけの なかの 3わが いけの そとへ できました。

□(1) いけの なかの あひるは なんわに なりましたか。
(しき)

(こたえ)

□(2) いけの そとの あひるは なんわに なりましたか。
(しき)

(こたえ)

□(3) いけの なかと そとで， どちらが なんわ おおく
なりましたか。
(しき)


(こたえ)

4 はじめ， 10にんの こどもが こうえんで

あそんで いました。そのうち， おとこのこは

4にんでした。このあと， おんなのこが ふたり

いえに かえりました。つぎの もんだいに こたえましょう。



□(1) はじめ， おんなのこは こうえんに なんにん いましたか。
(しき)

(こたえ)

□(2) こうえんに いる おんなのこは なんにんに なりましたか。
(しき)

(こたえ)

□(3) こうえんに いる こどもは なんにんに なりましたか。
(しき)

(こたえ)