

2

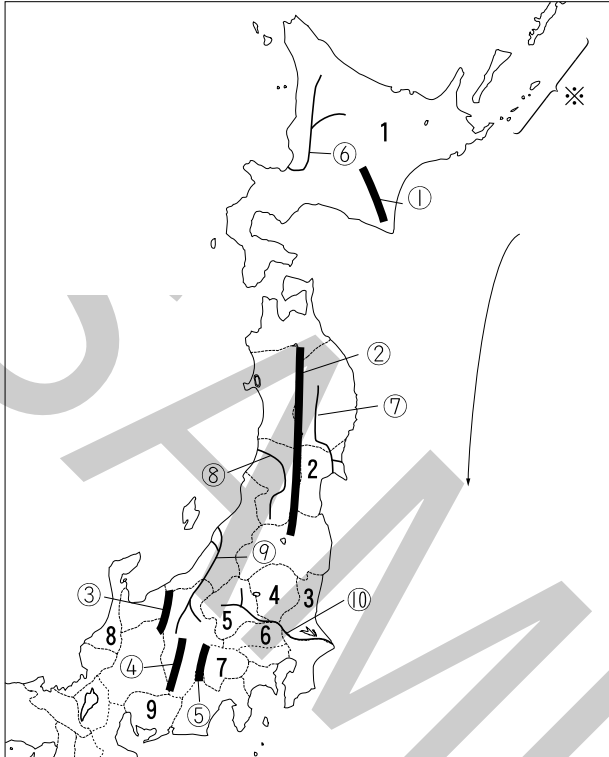
東日本の地理・世界と日本

学習日

/

確認問題

1 地図の確認 東日本 次の地図を見て、あとの問いに答えなさい。



- (1) 矢印で示した海流の名を答えなさい。
- (2) ①～⑤で示した山脈名と⑥～⑩で示した河川名を答えなさい。
- (3) ※で示した島々を占拠している国の名を答えなさい。
- (4) 1～9で示した道県名と道県庁所在地の都市名を答えなさい。

(1) \_\_\_\_\_

(2) \_\_\_\_\_

① \_\_\_\_\_

② \_\_\_\_\_

③ \_\_\_\_\_

④ \_\_\_\_\_

⑤ \_\_\_\_\_

⑥ \_\_\_\_\_

⑦ \_\_\_\_\_

⑧ \_\_\_\_\_

⑨ \_\_\_\_\_

⑩ \_\_\_\_\_

(3) \_\_\_\_\_

(4) \_\_\_\_\_

1 \_\_\_\_\_

2 \_\_\_\_\_

3 \_\_\_\_\_

4 \_\_\_\_\_

5 \_\_\_\_\_

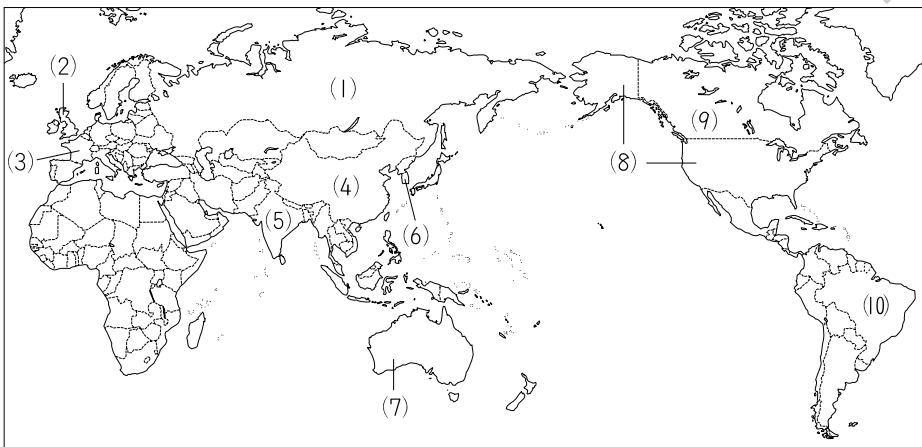
6 \_\_\_\_\_

7 \_\_\_\_\_

8 \_\_\_\_\_

9 \_\_\_\_\_

2 地図の確認 世界の国々 次の地図中の(1)～(10)にあてはまる国名をそれぞれ答えなさい。



(1) \_\_\_\_\_

(2) \_\_\_\_\_

(3) \_\_\_\_\_

(4) \_\_\_\_\_

(5) \_\_\_\_\_

(6) \_\_\_\_\_

(7) \_\_\_\_\_

(8) \_\_\_\_\_

(9) \_\_\_\_\_

(10) \_\_\_\_\_

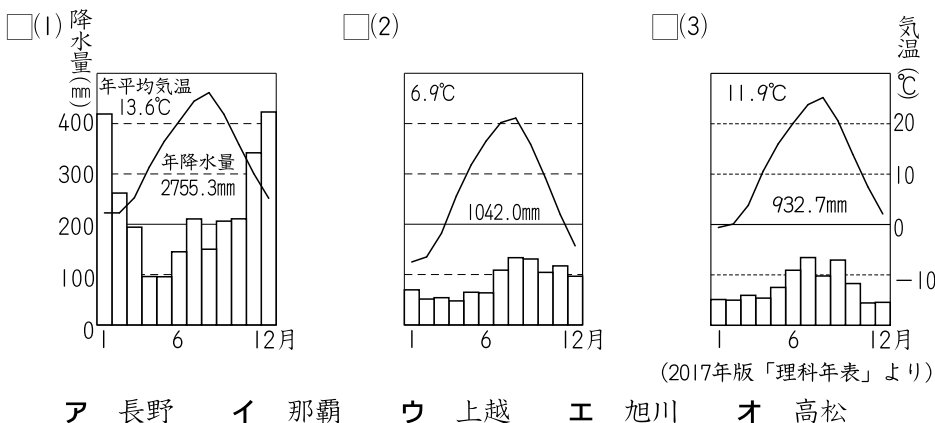
# 確認問題

## 3 重要語句の確認

- (1) 飛騨山脈・木曾山脈・赤石山脈をまとめて何といいますか。
- (2) 中部地方について、次の問いに答えなさい。
- ① 日本海側の地域を何といいますか。
- ② 岐阜県北部・長野県・山梨県を何といいますか。
- ③ 太平洋側の地域を何といいますか。
- (3) 濃尾平野西部の、水害を防ぐために堤防で囲んだ集落を何といいますか。
- (4) 高原の夏の涼しい気候を利用して行われる農業を何といいますか。
- (5) 愛知県・三重県・岐阜県に広がる総合工業地帯を何といいますか。
- (6) 時計やカメラなどをつくる機械工業を何といいますか。
- (7) 富山県の神通川流域で発生した公害病を何といいますか。
- (8) 川などで水位の差を利用して電気をおこす発電を何といいますか。
- (9) 都心の機能を分担している、新宿や池袋などを何といいますか。
- (10) 関東地方の1都6県と山梨県をあわせた地域をまとめて何といいますか。
- (11) 大都市の中心部で人口が減り、郊外で増える現象を何といいますか。
- (12) 千葉県の東京湾沿岸につくられた新しい工業地域を何といいますか。
- (13) 東北地方の太平洋側に夏に吹く冷たい北東風を何といいますか。
- (14) 水田の面積を減らそうとする国の政策をまとめて何といいますか。
- (15) 北海道の先住民族を何といいますか。
- (16) 国後島・択捉島・歯舞群島・色丹島をまとめて何といいますか。
- (17) 牛などを飼って牛乳など乳製品を生産する農業を何といいますか。
- (18) オホーツク海など北の海で行われている漁業を何といいますか。
- (19) 世界で最も人口が多い国はどこですか。

- (1) \_\_\_\_\_
- (2) \_\_\_\_\_
- ① \_\_\_\_\_
- ② \_\_\_\_\_
- ③ \_\_\_\_\_
- (3) \_\_\_\_\_
- (4) \_\_\_\_\_
- (5) \_\_\_\_\_
- (6) \_\_\_\_\_
- (7) \_\_\_\_\_
- (8) \_\_\_\_\_
- (9) \_\_\_\_\_
- (10) \_\_\_\_\_
- (11) \_\_\_\_\_
- (12) \_\_\_\_\_
- (13) \_\_\_\_\_
- (14) \_\_\_\_\_
- (15) \_\_\_\_\_
- (16) \_\_\_\_\_
- (17) \_\_\_\_\_
- (18) \_\_\_\_\_
- (19) \_\_\_\_\_

## 4 重要図版の確認 次の各グラフは、それぞれ、どの都市の雨温図ですか。あとから1つずつ選び、記号で答えなさい。



- (1) \_\_\_\_\_
- (2) \_\_\_\_\_
- (3) \_\_\_\_\_

# 練 成 問 題

1 右の地図を見て、次の問いに答えなさい。

- (1) 初夏のころに吹くやませの風向きを地図中のア～エから1つ選び、記号で答えなさい。

- (2) Xで示した線が通る地名として不適当なものを次から1つ選び、記号で答えなさい。

ア 出羽山地  
イ 奥羽山脈  
ウ 庄内平野  
エ 北上盆地

- (3) Yの都市の気候について正しく述べているものを次から1つ選び、記号で答えなさい。

ア 一年を通じて比較的温暖で、降水量が少ない。  
イ 夏と冬の気温差が非常に大きく、年間を通じて降水量が少ない。  
ウ 一年を通じて比較的温暖で、夏の降水量が多い。  
エ 季節風の影響で、冬の方が夏よりも降水量が多い。

- (4) 斜線で表した5つの道県は、ある農作物の収穫量上位5道県を示しています。この農作物名を答えなさい。

- (5) ぶどうとももの生産量が全国第1位の県を地図中の1～4から1つ選び、番号で答えなさい。

※	鉄鋼	その他
53.5%	5.8	40.7

(2017年版「県勢」より)

- (6) 右上のグラフは○で示した県の工業製品出荷額割合です。グラフ中の※にあてはまる工業製品を次から1つ選び、記号で答えなさい。

ア 電気機械    イ 食料品    ウ 輸送用機械    エ 紙・パルプ

- (7) ●で示した工業地帯に含まれる都市を次から1つ選び、記号で答えなさい。

ア 浜松    イ 君津    ウ 鹿嶋    エ 川崎

- (8) 孺恋村で高原野菜の抑制栽培がさかんであり、桐生織などの伝統工芸品で知られる県を地図中のA～Dから1つ選び、記号で答えなさい。

2 次の各文章で述べている条約名をそれぞれ答えなさい。

- (1) 水鳥の貴重な生息地を守るために採択された条約です。日本では琵琶湖や釧路湿原などが登録されています。

- (2) 世界的に重要な自然遺産や文化遺産を守るために採択された条約です。日本では白神山地や屋久島、姫路城などが登録されています。

- (3) 地球温暖化などの気候変動がもたらすさまざまな悪影響を防止するために採択された条約です。1997年には京都で会議が開かれました。

(1) \_\_\_\_\_

(2) \_\_\_\_\_

(3) \_\_\_\_\_

(4) \_\_\_\_\_

(5) \_\_\_\_\_

(6) \_\_\_\_\_

(7) \_\_\_\_\_

(8) \_\_\_\_\_

(1) \_\_\_\_\_

(2) \_\_\_\_\_

(3) \_\_\_\_\_

3 東日本の都道府県に関する次の各文を読んで、あとの問いに答えなさい。  
ただし、実際は都や道であっても文中では、すべて県とします。

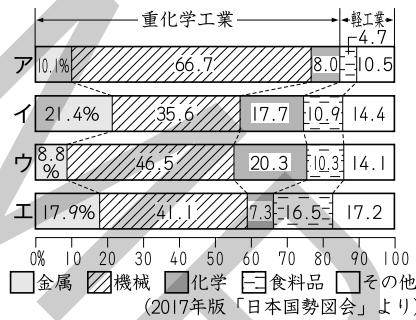
- 1 この県では加賀友禅や九谷焼など伝統工芸品の生産がさかんです。
- 2 この県のりんごの収穫量は全都道府県中第1位です。
- 3 この県の川崎や横浜など湾岸部には京浜工業地帯が広がっています。
- 4 この県の苫小牧では[ ]がさかんです。
- 5 この県の富士・富士宮では[ ]がさかんです。
- 6 この県の県庁所在地などでは南部鉄器の生産がさかんです。
- 7 この県の諏訪盆地では精密機械工業が行われています。
- 8 この県の成田市には日本の空の玄関である成田国際空港があります。

- (1) 1～8で述べている都道府県名をそれぞれ答えなさい。  
□(2) 1の文の県は、加賀友禅や九谷焼の他にも、ある漆器の生産で知られています。この漆器を次から1つ選び、記号で答えなさい。

ア 会津塗 イ 輪島塗 ウ 津軽塗 エ 春慶塗

- (3) 2の文の県とその隣県の県境を走るある山地は、世界遺産条約に登録されています。この山地名を答えなさい。

- (4) 3の文について、右のA～Eのグラフは、それぞれ、北九州・阪神・中京・京浜の工業地帯(地域)のいずれかの工業製品出荷額割合を示しています。京浜工業地帯を示すグラフを1つ選び、記号で答えなさい。



- (5) 4の県の日本最大の畑作地帯となっている平野名を答えなさい。  
□(6) 5の県のある港では、かつおやまぐろがさかんに水揚げされています。このある港を次から1つ選び、記号で答えなさい。

ア 境港 イ 釧路港 ウ 焼津港 エ 銚子港

- (7) [ ]に共通してあてはまる工業を次から1つ選び、記号で答えなさい。

ア 製紙・パルプ工業 イ 印刷業 ウ 鉄鋼業 エ 窯業

- (8) 6の文の県庁所在地名を答えなさい。  
□(9) 7の文について、諏訪盆地を通過している高速道路を次から1つ選び、記号で答えなさい。

ア 北陸自動車道 イ 関越自動車道  
ウ 中央自動車道 エ 常磐自動車道

- (10) 8の文について、成田国際空港の輸出品目の上位には集積回路があります。集積回路が航空輸送に適している理由を説明しなさい。  
□(11) 1～8のうちのある県には、中国のペキンやアメリカ合衆国のフィラデルフィアなどを通っている北緯40度の緯線が横切っています。この県を1つ選び、番号で答えなさい。

- (1) \_\_\_\_\_  
1 \_\_\_\_\_  
2 \_\_\_\_\_  
3 \_\_\_\_\_  
4 \_\_\_\_\_  
5 \_\_\_\_\_  
6 \_\_\_\_\_  
7 \_\_\_\_\_  
8 \_\_\_\_\_  
(2) \_\_\_\_\_  
(3) \_\_\_\_\_  
(4) \_\_\_\_\_  
(5) \_\_\_\_\_  
(6) \_\_\_\_\_  
(7) \_\_\_\_\_  
(8) \_\_\_\_\_  
(9) \_\_\_\_\_  
(10) \_\_\_\_\_  
\_\_\_\_\_  
\_\_\_\_\_  
(11) \_\_\_\_\_